



T.C.  
MİLLÎ EĞİTİM BAKANLIĞI  
ÖLÇME, DEĞERLENDİRME VE SINAV HİZMETLERİ GENEL MÜDÜRLÜĞÜ

## SINAVLA ÖĞRENCİ ALACAK ORTAÖĞRETİM KURUMLARINA İLİŞKİN MERKEZİ SINAV

# SAYISAL BÖLÜM 2020



Adı ve Soyadı : .....  
Sınıfı / Şubesi : .....  
Öğrenci Numarası : .....

DERS ADI	SORU SAYISI	TOPLAM SORU SAYISI	SINAV SÜRESİ (DAKİKA)
MATEMATİK	20	40	80
FEN BİLİMLERİ	20		

20 HAZİRAN 2020

Saat : 11.30

### ÖĞRENCİLERİN DİKKATİNE!

1. Sınıf öğrenci yoklama listesinde belirtilen sınıfta ve sıra numarasında oturunuz.
2. Cevap kâğıdındaki kimlik bilgilerinin doğruluğunu kontrol ediniz. Bilgiler size ait değilse veya cevap kâğıdı kullanılmayacak durumdaysa sınav görevlilerine bildiriniz.
3. Kitapçık türünü cevap kâğıdındaki ilgili alana kodlayınız.
4. Cevap kâğıdı üzerindeki kodlamaları kurşun kalemle yapınız.

**SINAV BAŞLAMADAN ÖNCE  
KİTAPÇIĞIN ARKA KAPAĞINDAKİ  
UYARILARI MUTLAKA OKUYUNUZ.**

2020



**MATEMATİK  
VIDEO ÇÖZÜM**



## SINAVLA ÖĞRENCİ ALACAK ORTAÖĞRETİM KURUMLARINA İLİŞKİN MERKEZİ SINAV

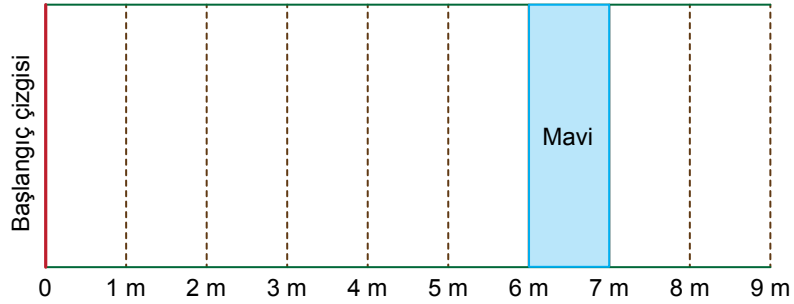
## MATEMATİK

1. Bu testte 20 soru vardır.
2. Cevaplarınızı, cevap kâğıdına işaretleyiniz.

1.  $a, b$  birer doğal sayı olmak üzere

$$a\sqrt{b} = \sqrt{a^2b} \text{ dir.}$$

Bir bilye atma oyununa ait, kısa kenar uzunluğu 1 m olan dokuz eş dikdörtgenel bölgeden oluşan oyun parkuru aşağıda verilmiştir.



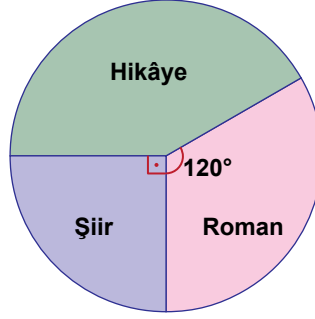
Başlangıç çizgisinden atış yapan bir oyuncunun attığı bilye, parkurda gösterilen mavi bölgede kalmıştır.

**Buna göre bu bilyenin başlangıç çizgisine uzaklığı metre cinsinden aşağıdakilerden hangisi olamaz?**

- A)  $2\sqrt{10}$                       B)  $3\sqrt{5}$                       C)  $4\sqrt{3}$                       D)  $2\sqrt{13}$

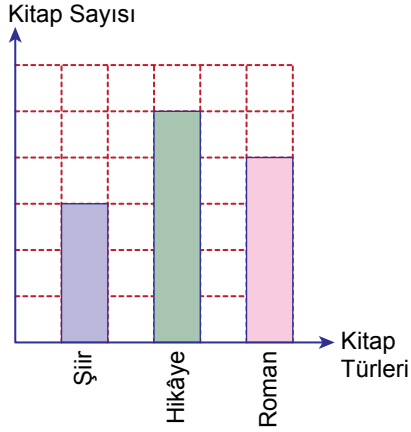
2. Ayşe'nin bir yılda okuduğu kitapların türlerine göre dağılımı aşağıdaki daire grafiği ile gösterilmiştir.

**Grafik:** Ayşe'nin Okuduğu Kitapların Türlerinin Dağılımı

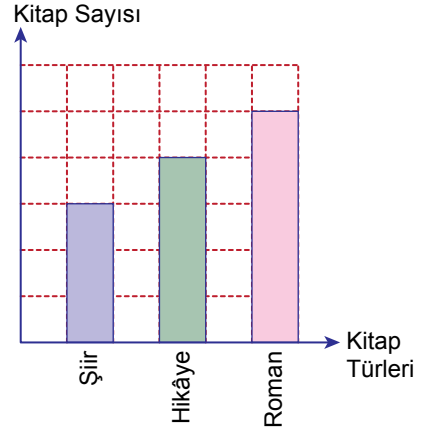


**Kareli zeminde verilen sütun grafiklerinden hangisi yukarıdaki daire grafiğine uygun oluşturulmuştur?**

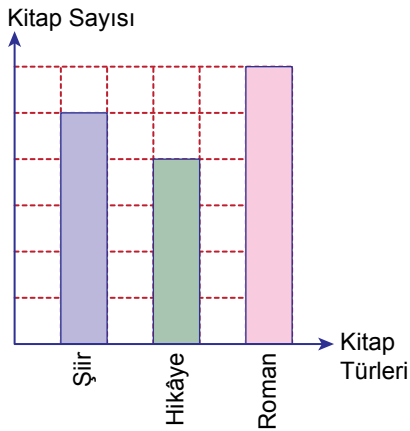
A) **Grafik:** Ayşe'nin Okuduğu Kitaplar



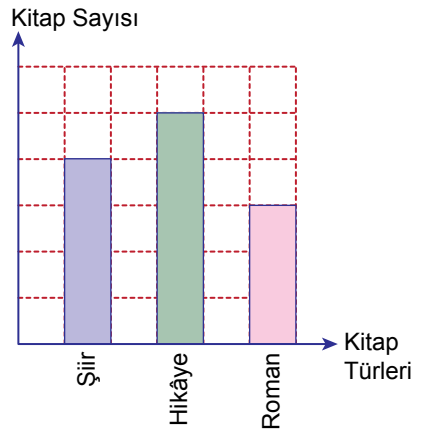
B) **Grafik:** Ayşe'nin Okuduğu Kitaplar



C) **Grafik:** Ayşe'nin Okuduğu Kitaplar



D) **Grafik:** Ayşe'nin Okuduğu Kitaplar



3. Bir ondalık gösterimin, basamak değerleri toplamı şeklinde yazılmasına ondalık gösterimin çözümlenmesi denir.

Bir basketbol takımındaki beş oyuncunun boy uzunluklarının çözümlenmiş şekli aşağıdaki tabloda verilmiştir.

**Tablo:** Oyuncuların Boylarının Uzunlukları

İsim	Boy Uzunluğu (cm)
Ayça	$2 \cdot 10^2 + 1 \cdot 10^0 + 1 \cdot 10^{-1}$
Beyza	$1 \cdot 10^2 + 7 \cdot 10^1 + 5 \cdot 10^0 + 5 \cdot 10^{-1}$
Ceyda	$1 \cdot 10^2 + 8 \cdot 10^1 + 4 \cdot 10^0$
Derya	$1 \cdot 10^2 + 8 \cdot 10^1 + 7 \cdot 10^0 + 2 \cdot 10^{-1}$
Esra	$1 \cdot 10^2 + 8 \cdot 10^1 + 5 \cdot 10^0 + 6 \cdot 10^{-1}$

Takımın antrenörü, boyu 185 santimetreden kısa olan oyuncularından birini oyun kurucu olarak oynayacaktır.

**Buna göre verilen oyuncular arasında oyun kurucu olarak oynayabilecek kaç oyuncu vardır?**

A) 4

B) 3

C) 2

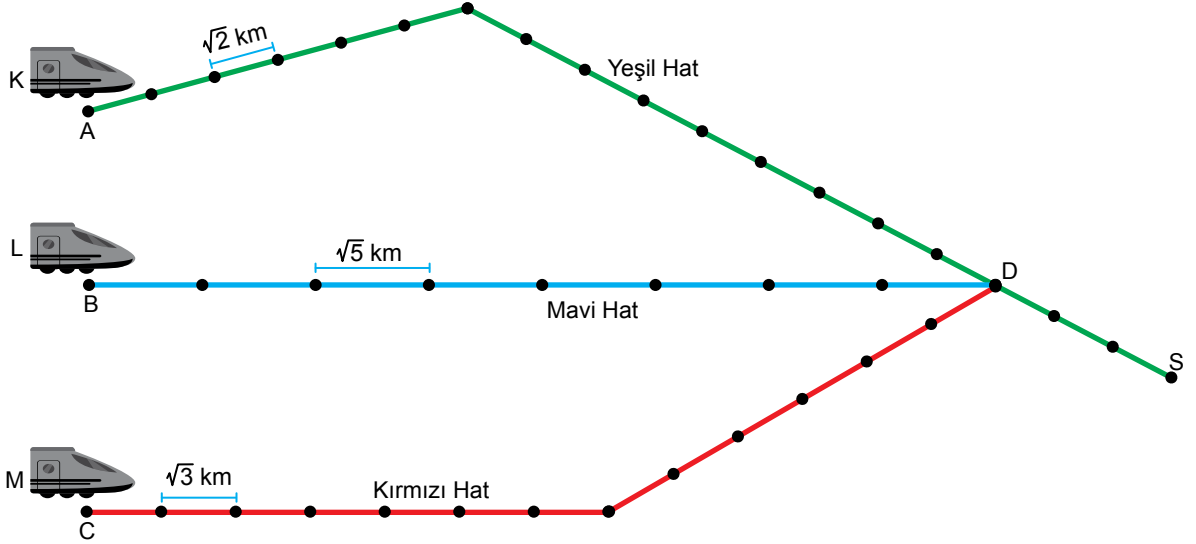
D) 1

4.  $a, b, c$  birer doğal sayı olmak üzere

$$a\sqrt{b} = \sqrt{a^2b}$$

$$a\sqrt{b} + c\sqrt{b} = (a+c)\sqrt{b} \text{ dir.}$$

Bir şehrin demir yolu hatları üzerindeki istasyonlar aşağıdaki şekilde noktalar ile gösterilmiştir. Aynı hat üzerinde bulunan ardışık iki istasyon arasındaki mesafeler birbirine eşittir.



A, B, C istasyonlarından hareket eden K, L ve M trenleri ortak olan D istasyonundan sonra yeşil hattı kullanarak S istasyonuna ulaşıyorlar.

**Bu trenlerin gittikleri yolların uzunluğuna göre doğru sıralanışı aşağıdakilerden hangisidir?**

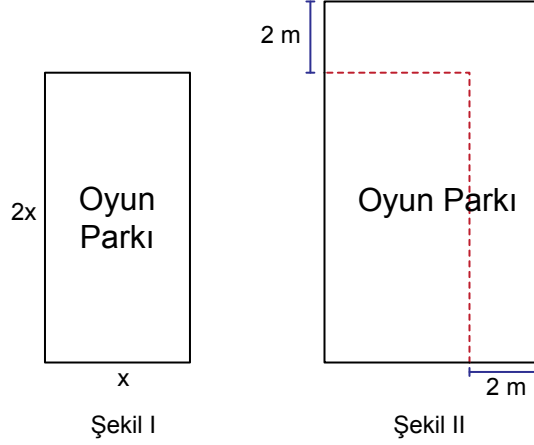
A)  $K > L > M$

B)  $K > M > L$

C)  $M > L > K$

D)  $M > K > L$

5. Kenarlarının uzunlukları  $x$  metre ve  $2x$  metre olan dikdörtgen şeklindeki oyun parkının planı Şekil I'de verilmiştir. Bu oyun parkının kenarları 2'şer metre uzatılarak Şekil II'deki gibi dikdörtgen biçiminde bir oyun parkı planlanmıştır.



Buna göre Şekil II'deki oyun parkının alanının Şekil I'deki oyun parkının alanından kaç metrekare fazla olduğunu veren cebirsel ifade aşağıdakilerden hangisidir?

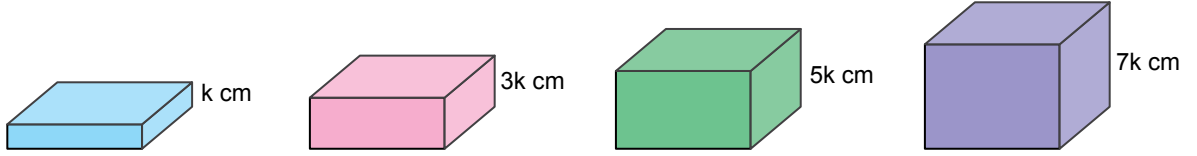
A)  $6x + 4$

B)  $6x + 6$

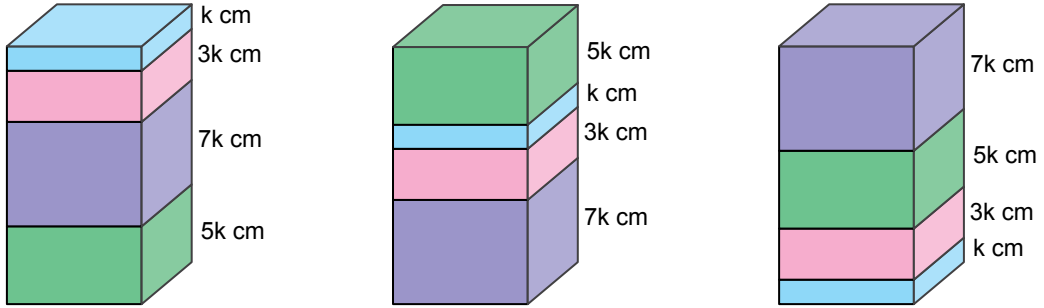
C)  $3x + 2$

D)  $3x + 4$

6. Yükseklikleri santimetre cinsinden birer tam sayı olan aşağıdaki dikdörtgenler prizması şeklindeki kutuların her birinden üçer adet vardır.



Bu kutular aşağıdaki gibi üst üste dizilerek üç ayrı blok oluşturulmuştur.



Bloklardaki kutuların yerleri değiştirilmeden bu üç blok üst üste konularak bir kule oluşturuluyor. Daha sonra kulenin en üstünde bulunan kutu alınıyor.

**Son durumda bu kulenin yüksekliğinin santimetre cinsinden değeri aşağıdakilerden hangisi olamaz?**

- A) 94                      B) 90                      C) 86                      D) 82



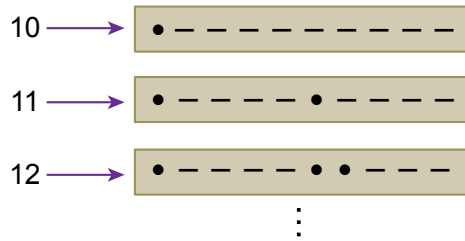
7. Bir olayın olma olasılığı =  $\frac{\text{İstenilen olası durumların sayısı}}{\text{Tüm olası durumların sayısı}}$

Aşağıdaki tabloda • (nokta) ve – (çizgi) karakterleri kullanılarak tanımlanmış rakamlar verilmiştir.

1	• – – – –	6	– • • • •
2	• • – – –	7	– – • • •
3	• • • – –	8	– – – • •
4	• • • • –	9	– – – – •
5	• • • • •	0	– – – – –

Bu rakamlara karşılık gelen karakterlerle oluşturulan iki basamaklı doğal sayıların tamamı aşağıdaki gibi özdeş kartlara yazılıp boş bir torbaya atılmıştır.

Örneğin;



Bu torbadan rastgele yapılan bir çekilişte üzerindeki • (nokta) sayısı 5 olan kartın çekilme olasılığı kaçtır?

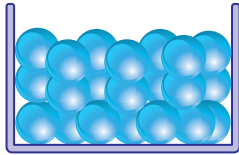
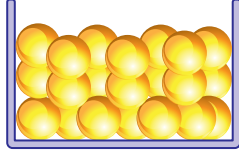
A)  $\frac{19}{90}$

B)  $\frac{1}{5}$

C)  $\frac{17}{90}$

D)  $\frac{1}{6}$

8. Aşağıda her birinin kütlesi 3 g olan sarı boncuklardan ve her birinin kütlesi 5 g olan mavi boncuklardan yeterli sayıda verilmiştir. Bu boncuklar kullanılarak bir kolye yapılmıştır.

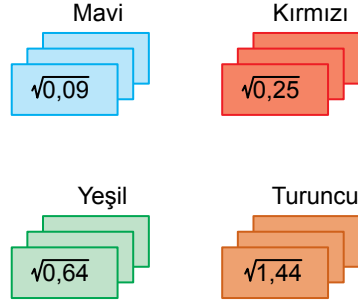


Kolyedeki mavi boncukların toplam kütlesi sarı boncukların toplam kütlesine eşittir.

Kullanılan boncukların toplam kütlesi 230 gramdan az olduğuna göre bu kolyedeki sarı boncukların sayısı ile mavi boncukların sayısı arasındaki fark en fazla kaçtır?

- A) 14      B) 15      C) 28      D) 30

9. Aşağıda dört farklı renkteki kartların her birinden üçer adet verilmiştir. Aynı renkteki kartların üzerinde aynı kareköklü ifade yazmaktadır.



Eymen, bu kartlardan seçerek üstlerinde yazan kareköklü ifadeleri topladığında bir doğal sayı elde etmektedir.

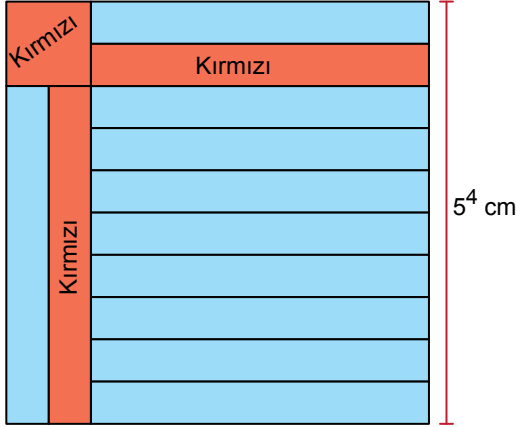
Buna göre Eymen en fazla kaç kart seçmiştir?

- A) 8      B) 9      C) 10      D) 11

10.  $a \neq 0$  ve  $m, n$  tam sayılar olmak üzere

$$a^n \cdot a^m = a^{n+m} \text{ ve } \frac{a^m}{a^n} = a^{m-n} \text{ dir.}$$

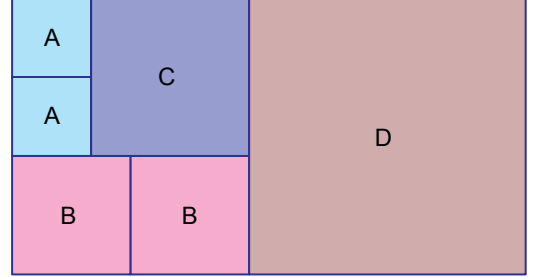
Bir kenarının uzunluğu  $5^4$  cm olan kare şeklindeki kâğıdın bir yüzüne aşağıdaki gibi 12 eş dikdörtgen ve 1 kare çizilmiştir. Bu şekillerden kare ve 2 eş dikdörtgen kırmızıya boyanmıştır.



Buna göre kırmızı bölgelerin alanları toplamı kaç santimetrekaredir?

- A)  $2 \cdot 5^7$     B)  $5^7$     C)  $2 \cdot 5^6$     D)  $5^6$

11. Dikdörtgen şeklindeki bir kâğıt, alanları santimetrekare cinsinden 10'dan büyük birer tam kare pozitif tam sayıya eşit olan karesel bölgelere aşağıdaki gibi ayrılmıştır.



Eşit alanlı bölgeler aynı harf ile gösterildiğine göre dikdörtgen şeklindeki bu kâğıdın bir yüzünün alanı en az kaç santimetrekaredir?

- A) 168    B) 255    C) 364    D) 392

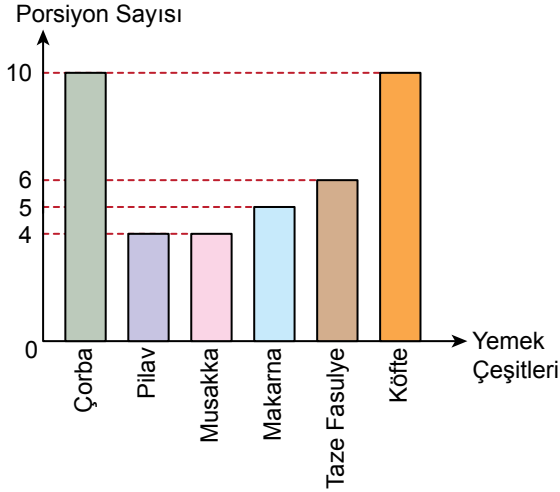
12. Alanı  $1050 \text{ cm}^2$  olan kare şeklindeki bir panoya kenarlarından birinin uzunluğu 5'in tam sayı kuvveti, diğerinin uzunluğu 2'nin tam sayı kuvveti olan dikdörtgen şeklindeki bir afiş, pano yüzeyinden taşmayacak şekilde asılacaktır.

Buna göre afişin bir yüzünün alanı en fazla kaç santimetrekaredir?


- A) 1000    B) 800    C) 640    D) 400

13. Bir lokantada hazırlanan yemek çeşitleri ve porsiyon sayıları sütun grafiği ile bu yemekler için kullanılan toplam 60 g tuzun yemek çeşitlerine göre dağılımı daire grafiği ile aşağıda gösterilmiştir. Bir çeşit yemeğin her porsiyonunda eşit miktarda tuz bulunmaktadır.

**Grafik:** Yemek Çeşitleri ve Porsiyon Sayıları



**Grafik:** 60 g Tuzun Yemek Çeşitlerine Göre Dağılımı



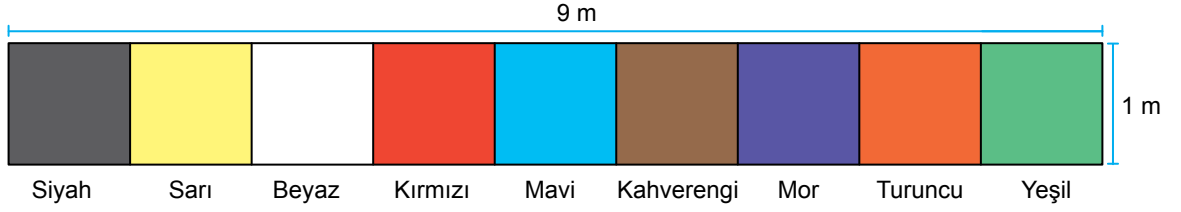
Bu lokantada üç farklı yemekten birer porsiyon yiyen bir müşteri toplam 5 g tuz tüketmiştir.

**Buna göre bu müşterinin yediği yemekler aşağıdakilerden hangisidir?**

- A) Çorba – Pilav – Musakka
- B) Pilav – Musakka – Köfte
- C) Çorba – Musakka – Makarna
- D) Pilav – Taze Fasulye – Köfte



14. Bir olayın olma olasılığı =  $\frac{\text{İstenilen olası durumların sayısı}}{\text{Tüm olası durumların sayısı}}$



Kenarlarının uzunlukları 1 m ve 9 m olan dikdörtgen biçimindeki bir halının ön yüzü, şekildeki gibi farklı renklere boyanmıştır. Bu renklerin her birinin kapladığı karesel bölgenin alanı birbirine eşittir.

Bu halı, parçalarda aynı renk olmayacak şekilde iki parçaya bölünecektir.

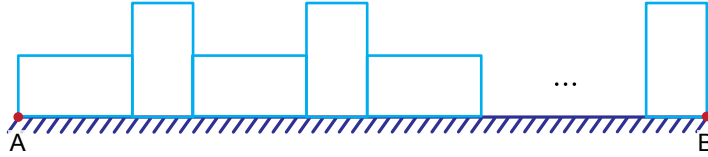
**Buna göre bu parçalardan birinin boyalı yüzünün alanının, diğerinin boyalı yüzünün alanının 2 katı olması olasılığı kaçtır?**

- A)  $\frac{1}{3}$                       B)  $\frac{1}{4}$                       C)  $\frac{1}{8}$                       D)  $\frac{1}{9}$

15. Aşağıda çevresinin uzunluğu  $(2x + 2)$  m olan dikdörtgenlerden yeterli sayıda verilmiştir.



Bu dikdörtgenler  $[AB]$  boyunca sırasıyla önce uzun kenarı sonra kısa kenarı üzerine aralarında boşluk kalmayacak şekilde aşağıdaki gibi yerleştirilmiştir. Uzun kenarı üzerine yerleştirilen ilk dikdörtgenin bir köşesi A noktası ile kısa kenarı üzerine yerleştirilen son dikdörtgenin bir köşesi B noktası ile çakışmıştır.



**Bu dikdörtgenler  $(x + 1)$  kez kısa kenarı üzerine yerleştirildiğine göre  $[AB]$ 'nin uzunluğunu metre cinsinden veren cebirsel ifade aşağıdakilerden hangisidir?**

A)  $x^2 + x + 2$


B)  $2x^2 + 1$

C)  $x^2 + 1$

D)  $x^2 + 2x + 1$

16. Bir olayın olma olasılığı =  $\frac{\text{İstenilen olası durumların sayısı}}{\text{Tüm olası durumların sayısı}}$

Renkleri dışında özdeş olan toplardan 4'ü kırmızı, geri kalanı beyazdır. Bu topların tamamı aşağıdaki boş A, B ve C torbalarına dağıtılıyor.



Bu torbaların her birinden rastgele çekilen bir topun kırmızı olma olasılığı birbirine eşittir.

**Buna göre başlangıçtaki beyaz top sayısı aşağıdakilerden hangisi olamaz?**

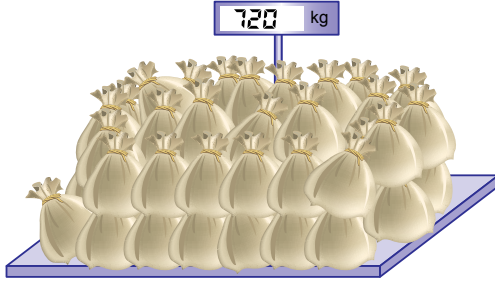
A) 80

B) 82

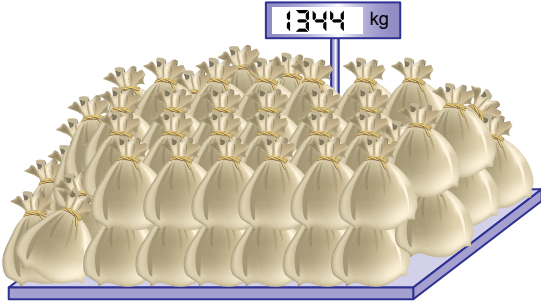
C) 88

D) 92

17. Her birinin kütlesi 40 kg'dan az ve birbirine eşit olan buğday çuvalları aşağıdaki gibi bir kantarda tartıldığında çuvalların toplam kütlesi 720 kg gelmektedir.



Kantar üzerindeki çuvalların sayısı, bu çuvalarla eşit kütleye sahip çuvalar konularak artırıldığında toplam kütle 1344 kg olmaktadır.



Buna göre kantar üzerine sonradan konulan çuvalların sayısı en az kaçtır?

- A) 52      B) 39      C) 26      D) 13

18.  $a \neq 0$  ve  $m, n$  tam sayılar olmak üzere

$$a^n \cdot a^m = a^{n+m} \text{ ve } \frac{a^m}{a^n} = a^{m-n}$$

$$(a^n)^m = a^{n \cdot m} \text{ dir.}$$

Bir fabrikada üretilen mavi ve kırmızı renkli otomobiller bir galeriye iki tır ile taşınmaktadır.

Bu otomobillerin birer adedinin kütleleri Tablo 1'de, tırların taşıdığı otomobillerin sayıları Tablo 2'de gösterilmiştir.

Tablo 1: Otomobillerin Kütleleri

Otomobil	Kütle (kg)
Mavi otomobil	$4^5$
Kırmızı otomobil	$2^{11}$

Tablo 2: Tırların Taşıdığı Otomobil Sayıları

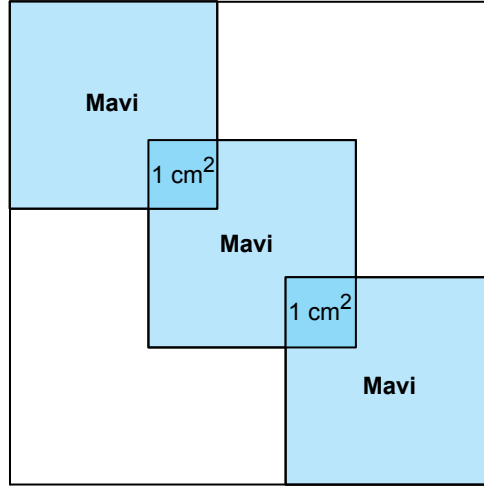
Tır \ Otomobil	Mavi otomobil	Kırmızı otomobil
A		
B	4	3

A tır ile taşınan mavi ve kırmızı otomobillerin sayıları birbirine eşittir.

İki tırın taşıdığı otomobillerin toplam kütlesi  $2^{14}$  kg olduğuna göre A tır ile taşınan otomobil sayısı kaçtır?

- A) 2      B) 4      C) 6      D) 8

19. Kare şeklindeki boş bir panoya kare şeklindeki üç eş mavi karton, köşegenleri panonun köşegeni ile çakışacak şekilde aşağıdaki gibi yerleştirilmiştir.



Panoda boş bırakılan bölgelerin alanları toplamı  $6x^2 + 36x + 54$  santimetrekaredir. Kartonların üst üste gelen bölgelerinin her biri, alanları  $1 \text{ cm}^2$  olan karesel bölgelerdir.

**Buna göre panonun çevresinin uzunluğunu santimetre cinsinden veren cebirsel ifade aşağıdakilerden hangisidir?**

A)  $12x + 40$

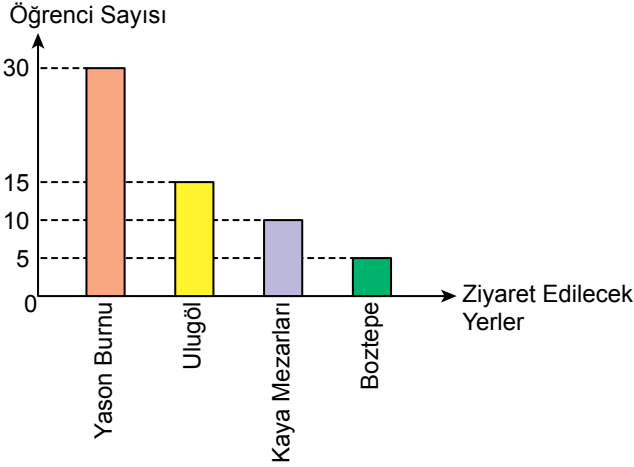
B)  $12x + 36$

C)  $12x + 32$

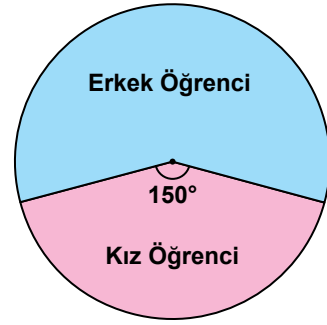
D)  $12x + 28$

20. Bir okulun Ordu iline düzenleyeceği gezide ziyaret edilecek yerlerle ilgili yapılan anket çalışmasında her bir öğrenci ziyaret edilebilecek yerlerle ilgili yalnız bir tercihte bulunmuştur. Bu anketin sonuçları sütun grafiği ile ankete katılan kız ve erkek öğrencilerin sayılarının dağılımı daire grafiği ile aşağıda gösterilmiştir.

**Grafik:** Ziyaret Etmek İstedikleri Yerlere Göre Öğrenci Sayıları

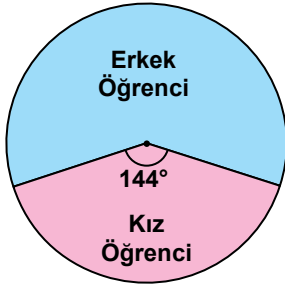


**Grafik:** Ankete Katılan Kız ve Erkek Öğrencilerin Sayılarının Dağılımı

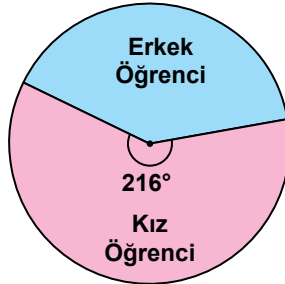


Ankete katılan kız ve erkek öğrencilerin sayılarının ziyaret etmek istedikleri yere göre dağılımları aşağıdaki daire grafiklerinde gösterilmiştir.


**Grafik:** Yason Burnu'na Gitmek İsteyen Kız ve Erkek Öğrencilerin Dağılımı



**Grafik:** Ulugöl'e Gitmek İsteyen Kız ve Erkek Öğrencilerin Dağılımı



**Grafik:** Kaya Mezarları'na Gitmek İsteyen Kız ve Erkek Öğrencilerin Dağılımı



Yukarıda verilenlere göre Boztepe'yi ziyaret etmek isteyen erkek öğrencilerin sayısı kaçtır?

- A) 1                      B) 2                      C) 3                      D) 4

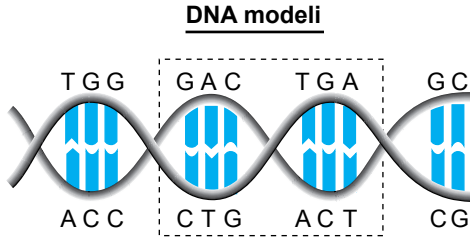
MATEMATİK TESTİ BİTTİ.  
FEN BİLİMLERİ TESTİNE GEÇİNİZ.

## SINAVLA ÖĞRENCİ ALACAK ORTAÖĞRETİM KURUMLARINA İLİŞKİN MERKEZİ SINAV

## FEN BİLİMLERİ

1. Bu testte 20 soru vardır.
2. Cevaplarınızı, cevap kâğıdına işaretleyiniz.

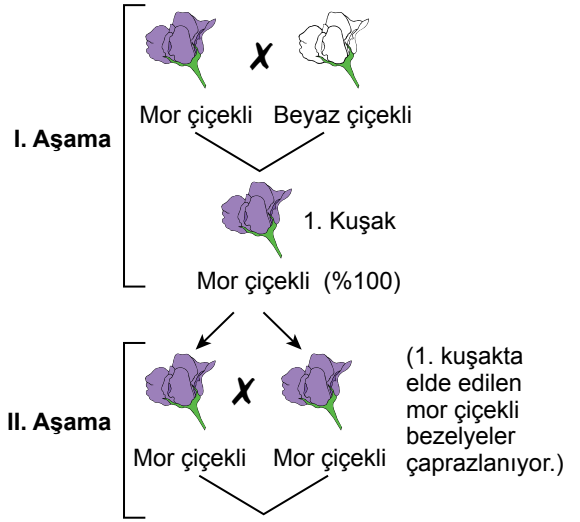
1. Şekilde bir DNA modeli verilmiş ve bir kısmı işaretlenmiştir.



Buna göre bu modelle ilgili aşağıdakilerden hangisi yanlıştır?

- A) DNA'daki baz eşleşmeleri tüm canlılarda aynı şekildedir.
- B) İşaretlenen kısım genin bir bölgesi olabilir.
- C) DNA zincirleri nükleotid olarak isimlendirilen birimlerin birbirine bağlanması sonucu oluşur.
- D) İşaretlenen kısımdaki nükleotid dizisi tüm canlıların DNA'larında aynıdır.

2. Bir araştırmacı bezelye bitkilerini kullanarak yaptığı iki aşamalı çaprazlama sonucunda %50 oranında beyaz çiçekli bezelye bitkisi elde etmek istiyor. Araştırmacı bu amaçla şu çaprazlamaları yapıyor:

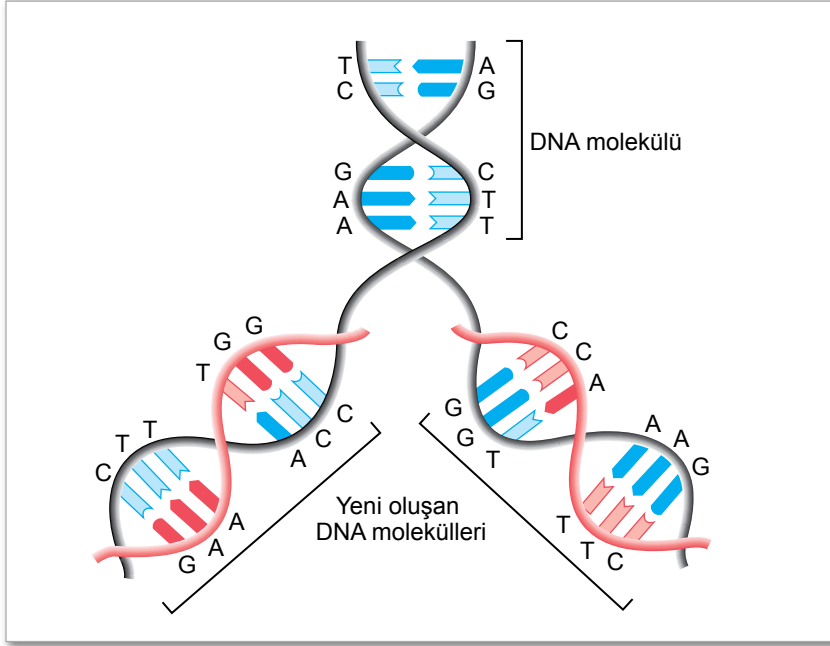


Araştırmacı, II. aşamadaki çaprazlama sonucunda beyaz çiçekli bezelyelerin istediği oranda ortaya çıkmadığını gözlemliyor.

Buna göre araştırmacı aşağıdakilerden hangisini yaparsa amacına ulaşabilir?

- A) I. aşamadaki beyaz çiçekli bezelye bitkilerinden iki tanesini çaprazlamalı.
- B) I. aşamada çaprazlanan mor çiçekli bezelye bitkisi ile II. aşamada çaprazlamaya alınan mor çiçekli bezelye bitkilerinden birini çaprazlamalı.
- C) 1. kuşakta elde ettiği bir bezelye bitkisi ile beyaz çiçekli bir bezelye bitkisini çaprazlamalı.
- D) II. aşamada homozigot mor çiçekli iki bezelye bitkisini çaprazlamalı.

3. Modelde bir DNA molekülünün bir kısmı ve bu molekülün kendini eşleme süreci verilmiştir.



Bu modele göre DNA'nın kendini eşlemesiyle ilgili aşağıdaki yorumlardan hangisi yanlıştır?

- A) Oluşan yeni DNA'lar, eski DNA'ya ait nükleotid dizisi içermez.
- B) Yeni oluşan DNA iplikleri yeniden ikili sarmal yapı oluşturur.
- C) Genetik bilgiler DNA'nın kendini eşlemesi ile yeni oluşan DNA moleküllerine aktarılır.
- D) Eşleşme tamamlandığında oluşan yeni DNA'lar, kalıtsal olarak başlangıçtaki DNA'nın aynısıdır.



4. Bir araştırmacı bezelyeler arasında çaprazlamalar yaparak bir öngörüsünü test etmek istiyor.

**Öngörü:** Düzgün tohumlu (genotipi  $DD$  veya  $Dd$ ) iki bezelyenin çaprazlanmasından hem düzgün tohumlu hem de buruşuk tohumlu (genotipi  $dd$ ) bezelyeler elde edilebilir.

**Deneme Aşaması:** Düzgün tohumlu iki bezelye çaprazlanmıştır.

**Sonuç:** Oluşan yeni kuşakta sadece düzgün tohumlu bezelyeler ortaya çıkmıştır. Bu durum öngörüü doğrulamamıştır.

**Buna göre araştırmacının deneme aşamasında yaptığı muhtemel çaprazlama ve öngörüsünü doğrulayabilmesi için yapması gereken çaprazlama aşağıdakilerin hangisinde doğru verilmiştir?**

	Deneme aşamasında yaptığı muhtemel çaprazlama	Öngörüsünü doğrulayabilmesi için yapması gereken çaprazlama
A)	$Dd \times Dd$	$DD \times dd$
B)	$DD \times dd$	$Dd \times Dd$
C)	$DD \times DD$	$Dd \times Dd$
D)	$DD \times Dd$	$dd \times dd$

5. Çevre koşullarının değişmesi genlerin işleyişini değiştirebilir.

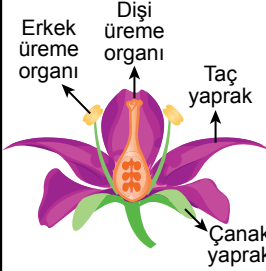
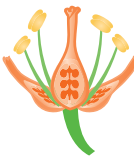


Bir tavşan türünde kürk renginden sorumlu olan genin işlevi ortam sıcaklığındaki değişimlere bağlı olarak farklılık gösterebilmektedir. Bu genin bir aleli tüm vücutta siyah renkli kürkün gelişmesini kontrol eder. Bu alel  $35^\circ\text{C}$ 'un üzerindeki sıcaklıklarda etkin değildir. Tavşanların vücudunun büyük bir kısmında vücut sıcaklığı  $35^\circ\text{C}$ 'un üzerinde olduğu için kürk rengi beyazdır. Bununla birlikte kulak, burun, kuyruk ve ayaklar  $25^\circ\text{C}$  gibi daha düşük sıcaklıkta olduğundan bu organların üzerindeki kürk rengi siyahtır. Ayrıca yeni doğan tavşanların kürklerinin de vücudun her yerinde beyaz olduğu bilinmektedir.

**Buna göre hakkında bilgi verilen tavşan türünün kürk rengi ile ilgili aşağıdakilerden hangisi doğrudur?**

- A) Beyaz kürklü doğanların, yaşamları boyunca tüm vücut kısımlarının kürk renginin beyaz olması beklenir.
- B) Vücutlarının siyah renkli kürke sahip olan kısımlarındaki hücrelerde kürk rengi ile ilgili alel bulunmaz.
- C) Yeni doğanların kürklerinin tamamen beyaz olması, embriyonun geliştiği anne vücut sıcaklığının  $35^\circ\text{C}$ 'un üzerinde olmasından kaynaklanabilir.
- D) Beyaz ve siyah renkli kürk oluşumu genlerin değil, yalnızca çevresel koşulların kontrolünde gerçekleşir.

6. Bitkilerde çiçek organlarının (çanak yaprak, taç yaprak, erkek üreme organı, dişi üreme organı) oluşumunda A, B ve C genleri etkilidir.

Tabloda A, B ve C genlerinin etkin (işlevsel) olduklarında oluşan çiçek organları verilmiştir.

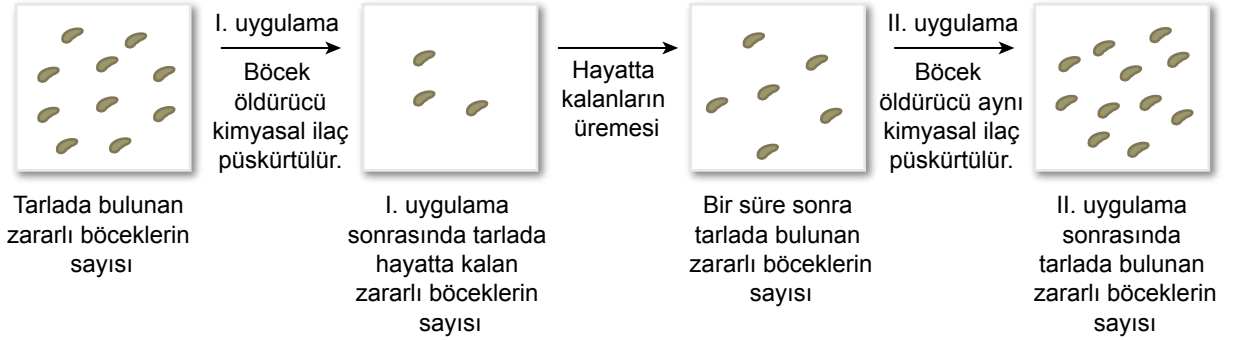
Etkin genler:	A, B, C	B, C	A, C	A, B
Çiçekte oluşan organlar:				
	<p><b>Normal tip</b> Dişi üreme organı, erkek üreme organı, taç yapraklar ve çanak yapraklar bulunur.</p>	<p><b>A geni mutasyona uğramış bitki</b> Taç yapraklar ve çanak yapraklar bulunmamaktadır.</p>	<p><b>B geni mutasyona uğramış bitki</b> Erkek üreme organı ve taç yapraklar bulunmamaktadır.</p>	<p><b>C geni mutasyona uğramış bitki</b> Dişi üreme organı ve erkek üreme organı bulunmamaktadır.</p>

Tablodaki verilere göre aşağıdakilerden hangisi doğrudur?

- A) A geninin işlevsiz olduğu çiçekte, çiçek organlarının tümünün normal gelişim göstermesi beklenir.  
 B) B geninin işlevsiz olduğu çiçekte, üremeden sorumlu hiçbir organın gelişmediği görülür.  
 C) C geninin işlevsiz olduğu çiçeğin, eşeyli üremeyi gerçekleştirmesi beklenir.  
 D) Çiçekte bir organın oluşumu üzerinde birden fazla gen etkili olabilir.

7. Ekili tarlalardaki tarım ürünlerine zarar veren bir böcek türü ile mücadele edebilmek için yapılan uygulamada kimyasal bir ilaç püskürtülmüştür. İlk uygulamada zararlı böcek popülasyonunun büyük bir kısmının ortamdaki kalktığı belirlenmiştir. Bölgede zamanla bu böcek popülasyonunun yeniden artmasından sonra aynı kimyasal ilaç tekrar uygulanmıştır. Bu uygulamada ise söz konusu böceklerin artık etkilenmediği görülmüştür.

Şekilde “” ile gösterilen tarım zararlısı böceklerin bulunduğu tarlalarda yapılan uygulamalar ve bu canlıların sayıları verilmiştir.



**Bu tarım alanlarında yapılan uygulamalar ve sonuçları ile ilgili aşağıdaki yargılardan hangisi yanlıştır?**

- A) Birinci uygulama sonrasında hayatta kalan böceklerin, ilgili kimyasal ilaca dirençlilikten sorumlu kalıtsal özelliklerini, üremeleri sırasında yavrularına aktardıkları söylenebilir.
- B) Birinci uygulama yapılmadan önce böcek popülasyonunda bazı bireylerin ilgili kimyasal ilaca karşı dirençli olduğu söylenebilir.
- C) Uygulanan kimyasal ilacın, bu böcek popülasyonunda doğal seçilime neden olduğu söylenebilir.
- D) Birinci uygulama öncesinde zararlı böcek popülasyonunun bireylerinin tamamının aynı kalıtsal yapıda olduğu söylenebilir.

8. Tarım arazilerinde uygun koşulların sağlanabilmesi için insanlar tarafından çeşitli uygulamalar yapılmaktadır. Bu uygulamaların bazıları sorunlara yol açar. Örneğin sulamanın fazla miktarda yapılması toprağın tuzluluk oranının artmasına neden olabilir. Bazı bitkiler bu ortamda da yaşayabilir. Çünkü hücre sitoplazmasına giren tuz iyonlarını hücre kofuluna taşıyan bir proteine sahiptir. Bazı bitkilerde, bu proteinin sentezlenmesinden sorumlu gen aktif değildir. Biyoteknoloji uygulamaları ile bu gen; kanola, buğday, domates gibi bitkilere aktarılmış ve bu bitkilerden domatesin normal seviyeden dört kat daha fazla tuzlu ortamda büyümesi sağlanmıştır.

**Buna göre bitkilerde gerçekleştirilen bu biyoteknoloji uygulaması ile ilgili aşağıda verilenlerden hangisi doğrudur?**

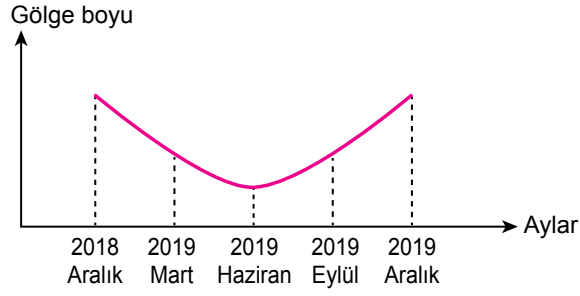
- A) Bu uygulamanın yapıldığı bitkilerin su kullanması engellenebilir.  
 B) Bu uygulama ile tuzlu topraklarda bitki üretimi gerçekleştirilebilir.  
 C) Bu uygulama ile domatesin tuzlu topraklarda verimliliği azalmıştır.  
 D) Bu uygulama, kullanılan bitkilerin bulunduğu çevre koşullarını değiştirir.

9. Türkiye'de bir bölgede 21 Temmuz 2015 tarihindeki sağanak yağmur; sel ve su taşkınlarına yol açmıştır. Uzmanlar bu yağışın sel ve su taşkınlarına yol açabileceği konusunda insanları daha önceden uyarmıştır.

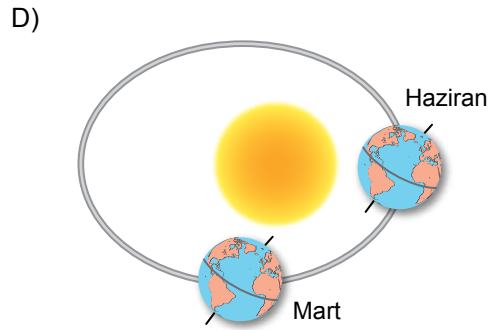
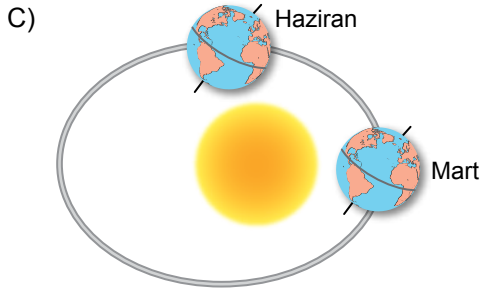
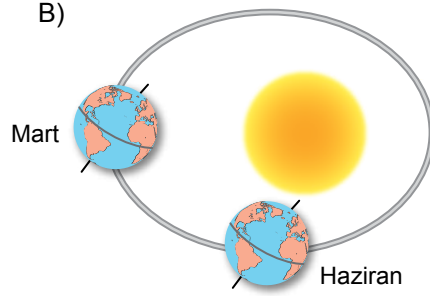
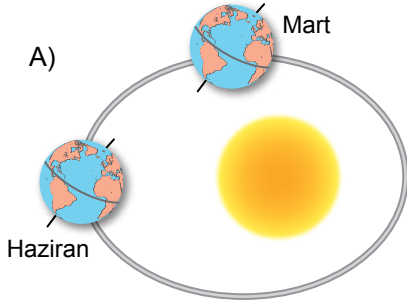
**Bu bölgede yaz aylarının genellikle yağışsız ve sıcak olmasına rağmen yaşanan bu durum ile ilgili aşağıdaki yorumlardan hangisi doğrudur?**

- A) Sel olması bölgenin ikliminin değiştiğini gösterir.  
 B) Bu tarihte yağmur yağması bölgenin iklim özelliklerinin bir sonucudur.  
 C) Bu tarihte yağmur yağması bir hava olayıdır.  
 D) Bu tahmin sadece iklim bilimci tarafından yapılabilir.

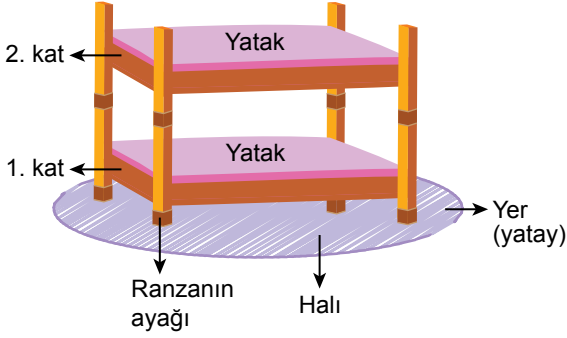
10. Yere dik olarak duran bir cismin gölge boyu bir yıl boyunca belirli aralıklarla ölçülerek şekildeki grafik elde ediliyor.



Dünya'nın Güneş'e göre olan konumları aşağıdakilerden hangisi gibi olursa mart ve haziran ayları arasında geçen sürede gölge boyu değişimi grafikteki gibi olur?



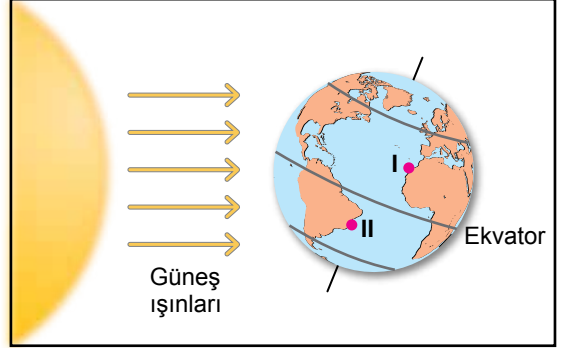
11. Bir odada bulunan şekildeki ranzanın ayakları, üzerinde bulunduğu halı zeminde derin bir iz bırakmıştır.



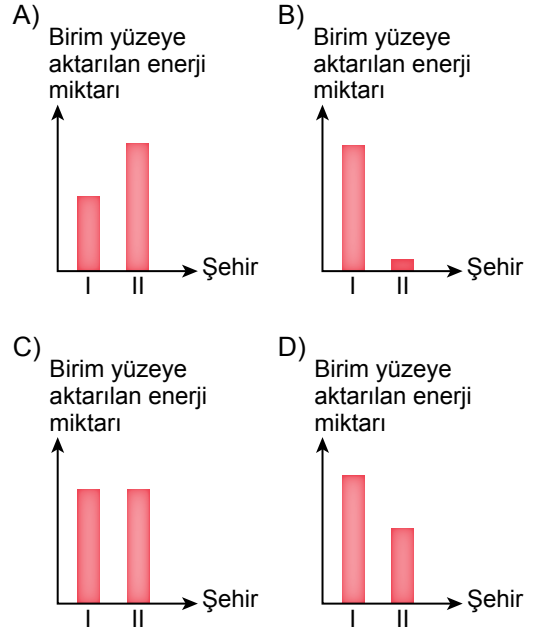
**Buna göre aşağıda verilenlerden hangisi yapılırsa ranza ayaklarının halı zeminde bıraktığı izin derinliği artar?**

- A) Ranzanın birinci katındaki ayaklarının altına genişliği, ayakların genişliğinden daha fazla olan bir tahta parçası koyulursa  
 B) Ranzanın ikinci katında bulunan yatak daha ağır olanı ile değiştirilirse  
 C) Ranzanın birinci katında bulunan yatak bulunduğu yerden çıkarılırsa  
 D) Ranzanın ikinci katı alınıp başka bir yere koyulursa

12. Dünya 21 Aralık tarihindeki konumundayken Ekvator'a eşit uzaklıkta ve deniz seviyesinde bulunan iki şehrin konumu şekil üzerinde numaralandırılarak verilmiştir.



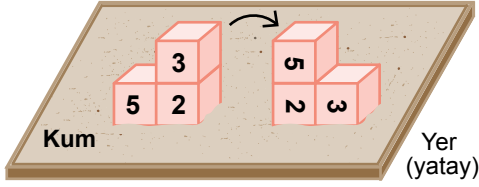
**Buna göre bu şehirlerdeki birim yüzeye Güneş ışınları ile aktarılan enerji miktarları aşağıdaki grafiklerin hangisinde doğru verilmiştir?**



13. Bir öğretmen, öğrencilerinden katı basıncının cismin yere temas eden yüzey alanına bağlı olup olmadığını araştırmalarını istemektedir.

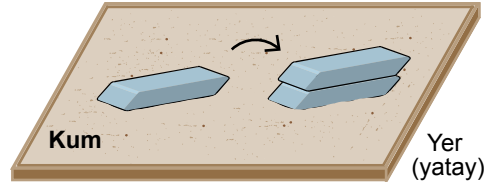
Buna göre öğrenciler, kum zemin üzerinde çeşitli malzemeleri kullanarak kurdukları aşağıdaki düzeneklerin hangisinde katı basıncının cismin yere temas eden yüzey alanına bağlı olduğunu gözlemleyebilir?

A)




Birbirine yapıştırılan özdeş küpler 2 ve 3 rakamları yere gelecek şekilde konuluyor.

B)



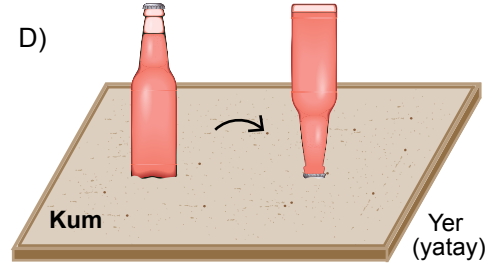
Yerde duran silgi üzerine özdeş bir silgi daha konuluyor.

C)



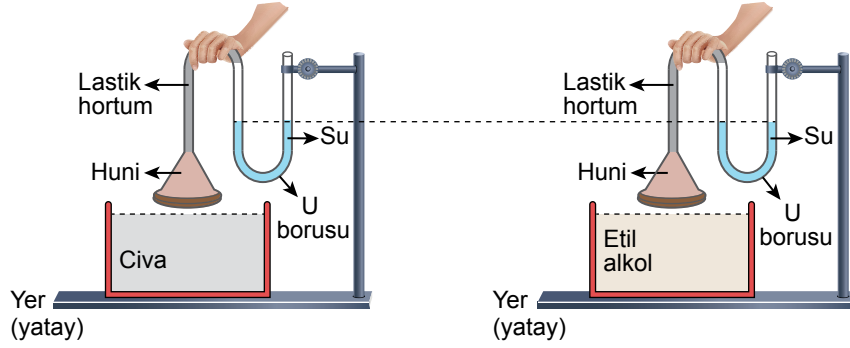
Üst üste duran özdeş fincanlardan üstteki fincan altındaki tabakla birlikte alınıyor.

D)



İçi sıvı dolu ve tabanı ağız kısmından geniş olan cam şişe ters çevrilerek konuluyor.

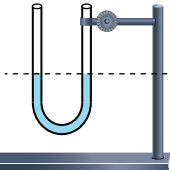
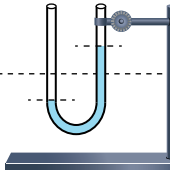
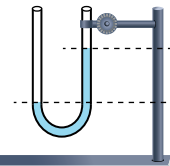
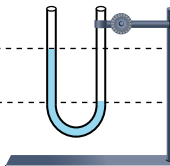
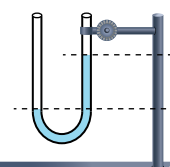
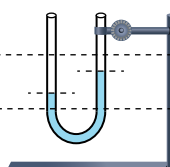
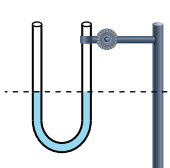
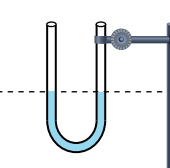
14. Sıvı basıncını etkileyen değişkenler ile ilgili bir deneyde bir öğrenci esnek ve su geçirmez bir maddeyle bir huninin geniş yüzeyini tamamen kapatıyor. Daha sonra lastik bir hortumun bir ucunu huniye, diğer ucunu da içinde bir miktar su olan U borusuna şekildeki gibi geçiriyor. Lastik hortumun ucundaki huniyi eşit hacimde civa ve etil alkol bulunan özdeş kapların tabanına değecek şekilde ayrı ayrı batırıyor.



**Civanın yoğunluğunun etil alkolün yoğunluğundan daha büyük olduğu bilindiğine göre huniler kabın tabanına değecek şekilde batırıldığında U borularında oluşabilecek su seviyeleri aşağıdakilerin hangisinde doğru verilmiştir?**

Civa bulunan kaptaki U borusu

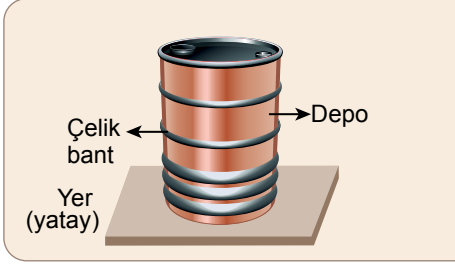
Etil alkol bulunan kaptaki U borusu

- A)    
Yer (yatay) Yer (yatay)
- B)    
Yer (yatay) Yer (yatay)
- C)    
Yer (yatay) Yer (yatay)
- D)    
Yer (yatay) Yer (yatay)

15. Sıvı basıncı derinlikle artar.

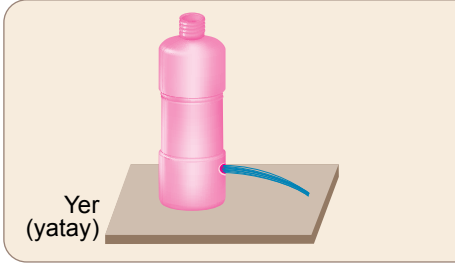
Buna göre;

I.



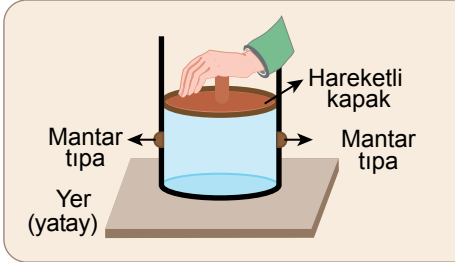
İçinde çeşitli sıvıların saklandığı büyük depoların dışında bulunan çelik bantların deponun alt kısmında daha sık aralıklarla sarılması

II.



Üzerinde delik bulunan, suyla dolu bir şişede su seviyesinin deliğe yaklaşmasıyla delikten çıkan suyun ulaştığı yatay mesafenin de azalması

III.



İçi suyla dolu bir kabın üzerindeki hareketli kapağa kuvvet uygulandığında mantar tıpalarla kapatılan deliklerden tıpların fırlaması

**durumlarından hangileri "Sıvı basıncı derinlikle artar." bilgisi kullanılarak açıklanabilir?**

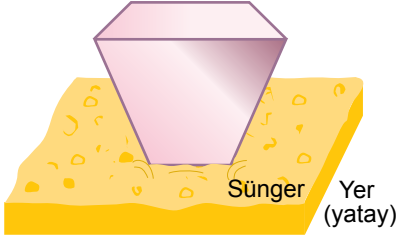
A) Yalnız I

B) Yalnız III

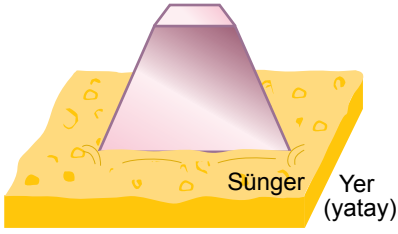
C) I ve II

D) I, II ve III

16. Bir öğrenci, yüzey alanları birbirinden farklı olan katı bir cisim kullanarak bir deney yapıyor. Öğrenci, cismi Şekil I'deki gibi küçük yüzey alanı süngere değecek şekilde koyuyor. Daha sonra cismi Şekil II'deki gibi büyük yüzey alanı aynı süngere değecek şekilde koyarak süngerdeki çökme miktarlarını gözlemliyor.



Şekil I

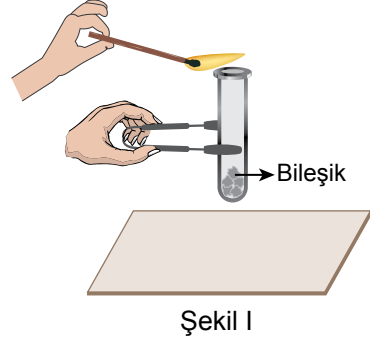


Şekil II

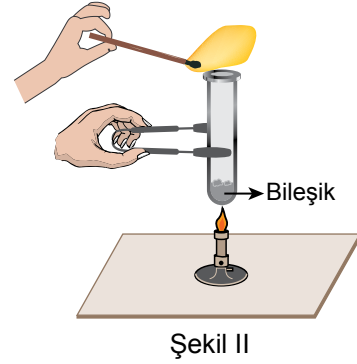
Buna göre aşağıdakilerden hangisi öğrencinin bu deneyde sabit tuttuğu (kontrol edilen) değişkenlerden biri değildir?

- A) Cismin ağırlığı  
B) Yüzey alanı  
C) Zeminin cinsi  
D) Cismin yapıldığı maddenin cinsi

17. Bir deneyde katı hâldeki bir bileşik, deney tüpüne konuluyor. Tüpün ağzına yanan bir kibrit Şekil I'deki gibi yaklaştırıldığında alevin parlaklığında değişimin olmadığı gözleniyor.



Bu deney tüpü Şekil II'deki gibi bir süre ısıtıldıktan sonra içindeki bileşiğin kütlesinin azaldığı ve yaklaştırılan kibrit alevinin parlaklığının arttığı gözleniyor.




**Kibrit alevinin parlaklığının artmasının ortamdaki oksijen gazının artmasından kaynaklandığı bilindiğine göre sadece bu deney ile ilgili;**

- I. Bileşiğin yapısında oksijen bulunabilir.  
II. Isıtma işlemi kimyasal değişime neden olmuş olabilir.  
III. Bileşiğin yapısındaki atomların türü değişmiş olabilir.

**çıkarımlarından hangileri doğrudur?**

- A) Yalnız I  
B) I ve II  
C) II ve III  
D) I, II ve III

18. Şekilde bir kısmı verilen periyodik tabloda elementler; metal, ametal, yarımetal ve soygaz olma durumlarına göre farklı desenlerle taranarak gösterilmiştir.



Bu periyodik tablodan seçilen bir element ve bu elementle aynı grup ve aynı periyotta yer alan komşu iki elementle üçlü gruplar oluşturuluyor.

Buna göre aşağıdaki üçlü gruplardan hangisi bu koşulu sağlamaz?

A)

yarı-metal	
metal	yarı-metal

B)

ametal	
metal	metal

C)

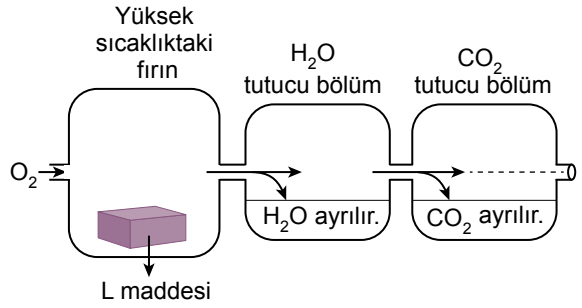
yarı-metal	ametal
	yarı-metal

D)

	soygas
metal	soygas

19. Bir L maddesine uygulanan işlemler ve işlemlerin sonuçları şu şekildedir:

- Yüksek sıcaklıkta, kuru ve havasız olan fırına saf bir L maddesi konulur.
- Bu bölüme oksijen ( $O_2$ ) gönderilerek L maddesinin oksijenle tepkimeye girmesi sağlanır.
- Tepkime sonucunda oluşan su ( $H_2O$ ), su tutucu bölüm tarafından tutulur.
- Tepkime sonucunda oluşan karbondioksit ( $CO_2$ ) ise karbondioksit tutucu bölüm tarafından tutulur.



L maddesinin oksijen ile tepkimesi sonucunda  $H_2O$  tutucu ve  $CO_2$  tutucu bölümün kütlesinin arttığı tespit edildiğine göre L maddesi ile ilgili aşağıdakilerden hangisi yanlıştır?

- A) L maddesi sadece fiziksel değişime uğramıştır.  
 B) L maddesi hidrojen atomu içerir.  
 C) L maddesi karbon atomu içerir.  
 D) L maddesi bileşiktir.

20. Bir bitkinin kaynayan suda bekletilmesiyle hazırlanan mavi renkli sıvı, maddelerin asit veya baz olma durumlarını tespit etmede kullanılabilir.

Oda sıcaklığında bu mavi sıvıdan özdeş kaplara eşit miktarlarda konulduktan sonra kaplardan birine limon suyu damlatıldığında sıvının renginin pembeye, diğerine sabunlu su damlatıldığında ise sıvının renginin yeşile döndüğü gözleniyor.

**Buna göre aşağıda pH değerleri verilen maddeler bu mavi sıvıya eklendiğinde maddelerde oluşan renk hangisinde doğru verilmiştir?**

	<u>Maddenin pH değeri</u>	<u>Oluşan renk</u>
A)	1	Yeşil
B)	4	Pembe
C)	6	Yeşil
D)	8	Pembe

## SINAV BAŞLAMADAN AŞAĞIDAKİ UYARILARI MUTLAKA OKUYUNUZ!

1. Öğrenciler, sınav kurallarına ve salon görevlilerinin tüm uyarılarına uymak zorundadırlar.
2. Sınav başladıktan sonra öğrencilerin salon görevlileri ve birbirleri ile konuşmaları; kalem, silgi vb. şeyleri istemeleri yasaktır.
3. Cevap kâğıdınızı silinmeyen bir kalemle imzalayınız.
4. Sınav sırasında çanta, cep telefonu, saat, kablosuz iletişim sağlayan cihazlar ve kulaklık, kolye, küpe, bilezik, yüzük, broş ve benzeri eşyalar ile her türlü elektronik ve/veya mekanik cihazları yanınızda bulundurmuyunuz. Bu araçları kullanmanız ve kopya çekmeye teşebbüs etmeniz hâlinde sınavınız geçersiz sayılacaktır.
5. Soru kitapçığının sayfalarını görevlilerin uyarıları doğrultusunda kontrol ediniz, baskı hatası var ise değiştirilmesini sağlayınız.
6. Cevaplamaya istediğiniz sorudan başlayabilirsiniz.
7. Soru kitapçığının içindeki boş alanları çözümlerinizi için kullanabilirsiniz.
8. Cevabını bilmediğiniz sorular üzerinde fazla zaman kaybetmeden diğer sorulara geçiniz. Zamanınız kalırsa bu sorulara daha sonra dönebilirsiniz.
9. Soru kitapçığı üzerinde yapıp cevap kâğıdına işaretlenmeyen cevaplar değerlendirmeye alınmayacaktır.
10. Cevaplarınızı, cevap kâğıdındaki ilgili soru numarasını dikkate alarak yuvarlağın dışına taşırmadan kurşun kalemle kodlayınız.
11. Değiştirmek istediğiniz bir cevabı, yumuşak silgiyle cevap kâğıdını yıpratmadan temizce siliniz ve yeni cevabınızı kodlayınız.
12. Cevap kâğıdınızı sınav süresince hiçbir öğrencinin göremeyeceği şekilde önünüzde bulundurunuz.
13. Sınavınızın değerlendirilmesi aşamasında, toplu kopya tespiti veya başka adayın sınav evrakını kullanmanız durumunda sınavınız geçersiz sayılacaktır.
14. Sağlık sorunu dışında dışarı çıkılmayacak, zorunlu durumlarda adaya yedek gözetmen eşlik edecektir.
15. Soruları ve sorulara verdiğiniz cevapları kaydetmeyiniz, hiçbir şekilde dışarı çıkarmayınız.
16. Sınav bitiminde, soru kitapçığı ve cevap kâğıdını salon görevlilerine teslim ediniz.
17. Sınav evraklarını teslim etmeyenlerin sınavı geçersiz sayılacaktır.
18. Puanlama: Her bir ders testine ait ham puan; ilgili teste ait doğru cevap sayısından yanlış cevap sayısının üçte biri çıkarılarak hesaplanacaktır.

### SINAV GÖREVLİLERİNCE SINAV BAŞLAMADAN ÖNCE ÖĞRENCİLERE YAPILACAK SON UYARILAR

- Soracağınız bir şey varsa şimdi sorunuz, sınav başladıktan sonra sorularınıza cevap verilmeyecektir.
- Başlama zilini bekleyiniz.

**Hepinize başarılar dileriz.**

**(Sınav görevlisi başlama ve bitiş saatini tahtaya yazacaktır.)**

20.06.2020 TARİHİNDE YAPILAN SINAVLA ÖĞRENCİ ALACAK ORTAÖĞRETİM  
KURUMLARINA İLİŞKİN MERKEZİ SINAV “SAYISAL BÖLÜM”  
“A” KİTAPÇIĞI CEVAP ANAHTARI

**MATEMATİK**

1. D
2. A
3. C
4. D
5. A
6. B
7. C
8. A
9. C
10. B
11. C
12. B
13. D
14. B
15. D
16. B
17. C
18. B
19. A
20. D

**FEN BİLİMLERİ**

1. D
2. C
3. A
4. C
5. C
6. D
7. D
8. B
9. C
10. A
11. B
12. A
13. D
14. C
15. C
16. B
17. B
18. D
19. A
20. B

2020



**MATEMATİK  
VİDEO ÇÖZÜM**

