



T.C.
MİLLÎ EĞİTİM BAKANLIĞI
ÖLÇME, DEĞERLENDİRME VE SINAV HİZMETLERİ GENEL MÜDÜRLÜĞÜ

SINAVLA ÖĞRENCİ ALACAK ORTAÖĞRETİM
KURUMLARINA İLİŞKİN MERKEZİ SINAV

SÖZEL BÖLÜM
2025



Adı ve Soyadı :
Sınıfı / Şubesi :
Öğrenci Numarası :

DERS ADI	SORU SAYISI	TOPLAM SORU SAYISI	SINAV SÜRESİ (DAKİKA)
TÜRKÇE	20	50	75
T.C. İNKILAP TARİHİ VE ATATÜRKÇÜLÜK	10		
DİN KÜLTÜRÜ VE AHLAK BİLGİSİ	10		
YABANCI DİL (İNGİLİZCE)	10		


15 HAZİRAN 2025

Saat : 09.30

ÖĞRENCİLERİN DİKKATİNE!

1. Salon yoklama listesinde belirtilen sınıfta ve sıra numarasında oturunuz.
2. Cevap kâğıdındaki kimlik bilgilerinin doğruluğunu kontrol ediniz. Bilgiler size ait değilse veya cevap kâğıdı kullanılmayacak durumdaysa salon görevlilerine bildirin.
3. Kitapçık türünü cevap kâğıdındaki ilgili alana kodlayınız.
4. Cevap kâğıdı üzerindeki kodlamaları siyah kurşun kalemle yapınız.

SINAV BAŞLAMADAN ÖNCE
KİTAPÇIĞIN ARKA KAPAĞINDAKİ
UYARILARI MUTLAKA OKUYUNUZ.



SINAVLA ÖĞRENCİ ALACAK ORTAÖĞRETİM KURUMLARINA İLİŞKİN MERKEZİ SINAV

TÜRKÇE

1. Bu testte 20 soru vardır.
2. Cevaplarınızı, cevap kâğıdına işaretleyiniz.

1. Hiç tanımadığımız ancak görür görmez içimizin ısındığı, şöyle bir kucaklayıp da sarmalamak istediğimiz insanlar vardır. Onların gülüşlerinde duygularının yıpranmış, çok acı çekmiş olduklarını görürsünüz. Fakat bu kişiler yine de - - - -, yaşama direncini ve umudunu yitirmemiş insanlardır. Üzüntülerinde de mutluluklarında da her daim samimilerdir. Onları değerli yapan özellikleri samimiyetleridir. Yalanı dolanı olmayan, riyakârlığa tamah etmeyen, dostlarına karşı - - - - ve paylaşımcı olan bu insanlar ilk bakışta kendilerini belli eder.

Bu metinde boş bırakılan yerlere düşüncenin akışına göre sırasıyla aşağıdakilerin hangisi getirilmelidir?

- A) rahata kavuşmamış - duyarlı
- B) pes etmemiş - koruyucu
- C) yenik düşmemiş - gururlu
- D) taviz vermemiş - baskıcı

2. Vatanına borçlu olarak ölmek istemez Fazıl Hüsnü Dağlarca. O ki şairdir, nefesıyla dalgalandırmalıdır bayrağını. O ki eski bir askerdir, cepheleri bir şahin gibi gözlemelidir. Silahlar ateşlenir de dağ taş ateşlenmez mi! Bir millet ayağa kalkar da kurt, kuş, ağaç, böcek sessiz mi kalır! Bir destan yazılmaktadır madem Anadolu'da, "Dağlarca" yazılmalıdır. "Üç Şehitler Destanı" denilmelidir en fırtınasına.

Bu metindeki altı çizili ifadeyle anlatılmak istenen aşağıdakilerden hangisidir?

- A) Bağımsızlık mücadelesine şairleriyle katılmak
- B) Özgürlüğe giden yolda şairlerine önem vermek
- C) Vatan sevgisini şairlerinde ana tema yapmak
- D) Şairlerinde millî değerlere öncelik vermek

3. “Birçok türde yazdım ama kendimi en iyi ifade ettiğim tür şiir oldu.” diyen bir sanatçı için aşağıdakilerden hangisi kesinlikle söylenir?

- A) Sanatçı, kendini rahat ifade ettiği için şiir türünü seçer.
- B) Sanatçının kendini iyi ifade edemediği türler vardır.
- C) Şiir, sanatçının kendini iyi ifade ettiği türler arasındadır.
- D) Şiir, sanatçının kendini iyi ifade etmesini kolaylaştıran bir türdür.

4. Yabancı kültür unsurlarını bire bir kopyalamak yerine bunları millî değerlerimizle yorumlayarak yeni tasarımlar ortaya koymamız gerekir.

Bu cümlede anlatılmak istenen aşağıdakilerden hangisidir?

- A) Yeni eserler, geleneksel konular ele alınarak özgün bir üslupla oluşturulmalıdır.
- B) Geçmişle bağları koparmadan modern kültürün evrensel değerlerine uygun eserler üretilmelidir.
- C) Başka milletlere ait değerler günümüz değerleriyle yeniden yorumlanarak aktarılmalıdır.
- D) Farklı kültürlere ait öğeler milletimize özgü bir bakış açısıyla işlenerek özgün eserler verilmelidir.

5. Aşağıdaki cümlelerin hangisinde nesne eksikliğinden kaynaklanan anlatım bozukluğu yoktur?

- A) Eskimiş düşünceler, paslanmış çivilere benzer; söküp atmalıyız.
- B) Hayatın dallarına her zaman sıkı sıkı sarılmalı, hiçbir zaman bırakmamalısın.
- C) Dilimizi doğru bir şekilde konuşmalı, gerekli özeni göstermeliyiz.
- D) Ay, tepelerin üstünde yavaş yavaş yükseldi; saatlerce balkondan seyrettik.

6. - - - . Ahmet Haşim, bunu ustaca yapan denemecilerin başında gelir. Haşim denemelerini kuyumcu titizliğiyle işler. Onun yazdıklarından bir tek sözcüğü çıkaramayacağınız gibi, onlara bir tek sözcük de katamazsınız. Falih Rıfkı'nın da üslubu beğenilir ama Haşim'in denemeleri için söylediğimiz şeyi onunkiler için söyleyemeyiz. Falih Rıfkı'nın "Eski Saat" yazısı, neredeyse hiç iz bırakmadan unutulup gitmişken Ahmet Haşim'in "Müslüman Saati" başlıklı yazısı sık sık hatırlanmakta, okunmakta, değerlendirme konusu olmaktadır.

Bu metinde;

- karşılaştırma,
- örneklendirme,
- benzetme,
- tanımlama

düşünceyi geliştirme yollarının tamamının kullanıldığını söyleyebilmek için boş bırakılan yere aşağıdakilerden hangisi getirilmelidir?

- A) Yıllara hitap edecek bir denemede her sözcük tarihî eser gibi geleceğe ulaşmak zorundadır
- B) Bir yazıyı deneme yapan özellik denince aklıma ilk gelenler yenilik, düşünce ve sözcük kullanımı oluyor
- C) İsteyerek seçtiği bir konu üzerinde sadece deneme yazarı fikirlerini serbestçe anlatır
- D) Deneme, şiirden sonra daha doğrusu şiirle birlikte az sözle çok söz söyleme sanatıdır

7. Ve şehir sabah akşam bu gürültüdür,
Baksan minareler, kubbeler görünür,
Minyatür bir gök ve serseri bulutlar;
Bacalar tütmekte yakından, uzaktan,
Kuşlar saçaklarda mahzun kanat çırpır,
Usanmış durur damlar, göğe bakmaktan.

Aşağıdakilerin hangisinde bu dizelerdeki söz sanatlarından herhangi biri kullanılmamıştır?

- A) Ağlama ey dere gürültüsüz ak
Kader bu: Ne yapsan suyun akacak
- B) Yolculuğum uzun sürmüş oldukça
Gece demir köprülerden geçmiştir tren
- C) Daha mı iyi olur daha mı kötü bilmiyordum
Bir umut vardı gönülde eksilmiyordu
- D) Dört nala gelip Uzak Asya'dan
Akdeniz'e bir kısrak başı gibi uzanan bu memleket bizim.

8. Fahri Bey ile torunu balığa gideceklerdi. Fahri Bey'in elinde kocaman oltası ve tabure torununun elinde ise kırmızı kova, çıktılar yola. Ağaçlarla kaplı dar sokaktan sahile doğru yokuş aşağı inmeye başladılar. - - - -

Bu parça aşağıdakilerin hangisiyle devam ettirildiğinde hikâyenin tüm unsurlarına yer verilmiş olmaz?

- A) Baharın gelişini müjdeleyen erguvanlar selamlanmadan geçilir miydi hiç? Fahri Bey, dalın birini torununa doğru eğdi. Kokusu büyüleyiciydi gerçekten.
- B) Sağa baktılar, sola baktılar. Her yıl nisan ve mayıs aylarında açan lalelere hayran kalmamak mümkün müydü? Gördükleri manzara harikaydı. Hayranlıkları giderek artıyordu.
- C) Yokuşun kenarında yapraklanmadan çiçek açan bir ağaç gördüler. Öylesine güzel bir rengi vardı ki... Güneş, yüzünü göstermeye başlarken fark edilmemesi imkânsızdı.
- D) Torunu, kaldırım taşlarına bakıyordu. Fahri Bey ise Boğaz'ın simgesi yalılara dikkat kesilmişti. Karşılarına daldan düşen bir sincap çıkmasın mı? Bir tarafta sincap, diğer tarafta ikisi...

9. İyi bir arka kapak yazısı kitabın içeriğine olduğu kadar yazarın üslubuna ve okurların kitabı okuduktan sonra hissedeceklerine dair bilgiler de verir. Bunlar, okurların kitap seçiminde önemli etkenlerdir. Bir okur da bunları dikkate alarak kitap seçimini yapmıştır.

Bu okurun kitap seçiminde etkili olan arka kapak yazısı aşağıdakilerden hangisi olabilir?

- A) Bu romanı bugün de tekrar tekrar okuyabilirsiniz. Güzel ve önemli Kurtuluş Savaşı romanlarından biridir. Bir toplumun, bir ulusun yeniden varoluş mücadelesini aynı şiddetle, aynı buhranla anlatıyor.
- B) Bir aşk destanı olan Ağrıdağı Efsanesi, geleneklerini Mahmut Han'a karşı savunan Ahmet ile Gülbahar arasındaki aşkı konu alır. Efsanelere ve halk söylencelerine yürekten bağlı yazarın bu romanı, insan psikolojisinin derinliklerini de içerir.
- C) Bu kitaptan sonra Yunus'un yanık sevdalı sesini duyacak, Mevlana'nın yaktığı insanlık ateşiyle aydınlanacaksınız. İnsan olma sevdasını şiirsel anlatan kitap sizi bütün zaman, kültür ve coğrafyalarda yeni bir kimlikle yolculuk yapmaya çağırıyor.
- D) Yazar, bu eserinde sözcükleri büyüteç gibi kullanıyor. Haritada İstanbul'un karşısına dizilmiş adalardan birine dikkatle bakmaya başlıyor. Başlangıçta soruyor yazar: Büyükada'yı tanıyan, bilen var mı? Büyükada'yı tanımayan, bilmeyen yok.

10. Genellikle büyük şairler hakkında yazılan eleştiri kitaplarında abartı derecesinde övgülerle karşılaşırız. Oysa yazar, son yazdığı eleştiri kitabında yıllarca aynı ekmeği bölüşmüş olmalarına rağmen Sezai Karakoç'u ve şiirlerini kendini bir adım geriye atarak anlatmıştır.

Bu metinde sözü edilen yazarın vurgulanan özelliği aşağıdakilerden hangisidir?

- A) Tarafsızlığı
B) Kararlılığı
C) Fedakârlığı
D) Alçak gönüllülüğü

11. Tarık, ikide bir kapağı işlemeli köstekli saatini çıkarıp bakıyor. Her bakışında “Geç kaldık, bu araba bu gidişle mümkünü yok trene yetişemez.” manasında cık cık ediyor, kafa sallıyor; bununla da yetinmeyip yanındakilere saati soruyordu.

Bu metindeki kahramanın duygu durumu aşağıdakilerin hangisinde vardır?

- A) Konuşmayı sevmeyen ninem, elinde ördüğü kazağı koltuğa bıraktı. Parmağıyla koluma dokundu. Gözyaşları içinde “Niçin geçinemiyorsunuz onunla? Niçin kızırıyorsunuz ona?” diye söylendi.
- B) Saatler geçti, kelimeler önce zihnime sonra deftere döküldü. Kelimelerin bu hızlı gelişine hayret ediyordum. Sanki kelimeler birbirleriyle yarışıyor.
- C) Delikanlı, bir yandan kitabını okumaya bir yandan da yaşlı adamın konuşmalarını dinlemeye çalışıyordu. Yaşlı adamın yalan söylediğini bildiği hâlde sesini çıkaramadı. Ancak burnundan soluyordu.
- D) Kalktı, eski perdesini kaldırıp pencereden baktı. Sürgülü kapıyı açıp bir de oradan baktı. Odanın içinde bir o tarafa bir bu tarafa gitti. Yerine oturdu ama gözü hâlen pencerede idi. Sakince beklemek zordu.

12. Okuma, rastgele ve bilinçsizce yapılırsa zaman kaybı ve hayal kırıklığı kaçınılmazdır. Bu nedenle kitaplar dünyasında seçme eserler okumak hayati bir önem taşımaktadır. Kitapların sayısı fazla, hayat ve zaman da kısa olduğundan okuma eyleminin en önemli noktası “seçme”dir. Bu seçme işinin temelinde yatan ise beklentilerimizdir. Öncelikle niçin okuduğumuzu tespit edip ardından kitapları araştırarak seçmeliyiz. Daha sonra ise edebî ve kabul görmüş bu eserleri belli bir düzen ve sıralama içerisinde okumalıyız.

Bu metinde asıl anlatılmak istenen aşağıdakilerden hangisidir?

- A) Kitaplara, belirli bir okuma hedefi konularak başlanmalıdır.
- B) Beklentilerin karşılanması için seçilen kitaplar hızlı okunmalıdır.
- C) Kitaplar, ihtiyaçlar doğrultusunda nitelikli olanlar arasından tercih edilmelidir.
- D) Herkes tarafından ilgi görmüş eserler bir plan dâhilinde okunmalıdır.

13. Günümüzdeki otomobillerde hemen hemen her şeyi dokunmatik ekranlar üzerinden yapabiliyorsunuz. Bu nedenle ekran ne kadar büyürse arabanın albenisi de o kadar artıyor. Maliyetleri düşürmek, üretim ve tasarım sürelerini kısaltmak ve etkileyici iç tasarımlar sunmak için fiziksel tuşlardan vazgeçilip dokunmatik ekranlara geçilse de yapılan kullanılabilirlik testleri çok farklı bir hikâye anlatıyor. Sürüş esnasında gerek duyulan birçok işlevde, fiziksel tuşların kullanılması dokunmatik ekrana göre çok daha güvenli. Öyle ki hareket hâlindeki bir araçta birtakım görevleri yerine getirmek için fiziksel tuşlar çok daha hızlı. Durum böyleyken otomobil sektörünün yanı sıra beyaz eşyadan endüstriyel ürünlere kadar birçok elektronik cihazda da dokunmatik ekran kullanılmaktadır.

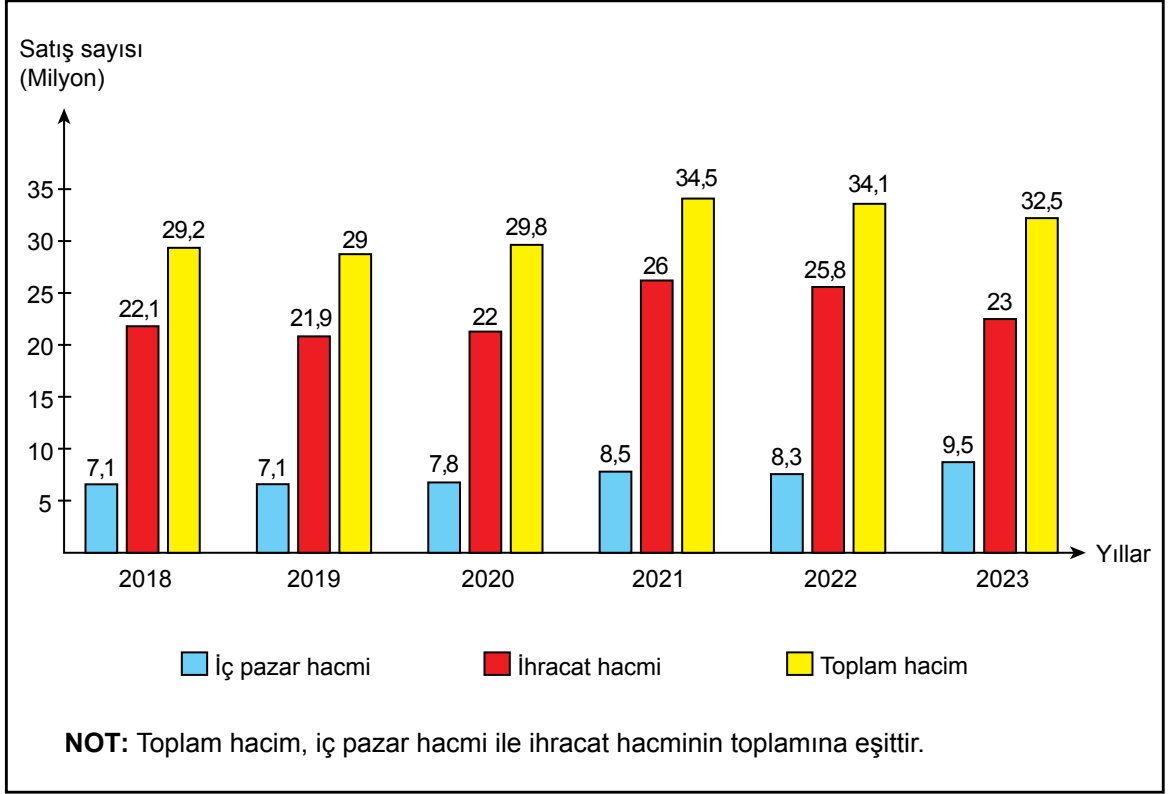
Bu metinden,

- I. Otomobil üreticileri, tüketicilerin görüşlerini ve isteklerini dikkate almaktadır.
- II. Otomobil sektörüyle başlayan dokunmatik ekran üretimi diğer sektörlere de yayılmaya başlamıştır.
- III. Fiziksel tuşlar, dokunmatik ekrana göre kullanıcılara daha güvenli bir sürüş imkânı sağlamaktadır.
- IV. Dokunmatik ekran üretimi, fiziksel tuş üretimine göre daha avantajlıdır.

yargılarının hangilerine ulaşılabilir?

- A) I ve II B) I ve IV C) II ve III D) III ve IV

14. Bir ülkede beyaz eşya satışlarının iç pazar hacminin, ihracat hacminin ve toplam hacminin 2018-2023 yılları arasındaki değişimi aşağıdaki grafikte gösterilmiştir.



Bu bilgilere göre,

- - - - - yılında bir önceki yıla göre toplam hacmin yükselmesinde iç pazar hacmindeki yükselişin etkisi ihracat hacmindeki yükselişin etkisinden daha fazladır.
- - - - - yılında bir önceki yıla göre yükselen toplam hacim, bir sonraki yıl düşüş göstermiştir.
- - - - - yılında bir önceki yıla göre iç pazar hacmi yükselmesine rağmen ihracat hacmi düşmüştür.
- - - - - yılında bir önceki yıla göre toplam hacimde görülen düşüşün sebebi hem iç pazar hacmindeki hem de ihracat hacmindeki düşüştür.

cümlelerinde boş bırakılan yerlerin herhangi birine aşağıdakilerden hangisi getirilemez?

A) 2019

B) 2020

C) 2022

D) 2023

15. Bir aile, bir hafta boyunca her gün ürettiği yumurtaların bir kısmını tüketmekte; kalan kısmını ise satmaktadır. Bu yumurtaların üretim, tüketim ve satış miktarları ile ilgili bilinenler şunlardır:

- Üretim miktarı hafta içi üç farklı günde, bir önceki güne göre artış göstermiştir.
- Tüketim miktarı hafta içi iki farklı günde, bir önceki güne göre artış göstermiştir.
- Üretim miktarının bir önceki güne göre artış gösterdiği günlerde satış miktarı da bir önceki güne göre artış göstermiştir.

Bu bilgilere göre ailenin yumurta üretim, tüketim ve satış miktarını gösteren tablo aşağıdakilerden hangisi olabilir?

A)

Günler	Üretim miktarı	Tüketim miktarı	Satış miktarı
Pazartesi	20	15	5
Salı	25	15	10
Çarşamba	25	15	10
Perşembe	30	10	20
Cuma	40	15	25
Cumartesi	30	20	10
Pazar	20	15	5

B)

Günler	Üretim miktarı	Tüketim miktarı	Satış miktarı
Pazartesi	15	10	5
Salı	25	15	10
Çarşamba	30	10	20
Perşembe	25	10	15
Cuma	40	20	20
Cumartesi	30	25	5
Pazar	40	25	15

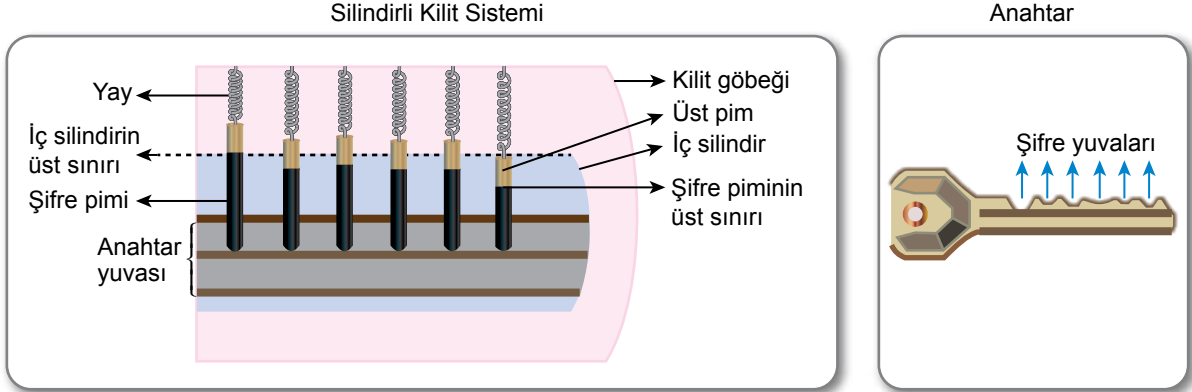
C)

Günler	Üretim miktarı	Tüketim miktarı	Satış miktarı
Pazartesi	25	10	15
Salı	30	10	20
Çarşamba	40	15	25
Perşembe	35	15	20
Cuma	35	20	15
Cumartesi	30	20	10
Pazar	40	15	25

D)

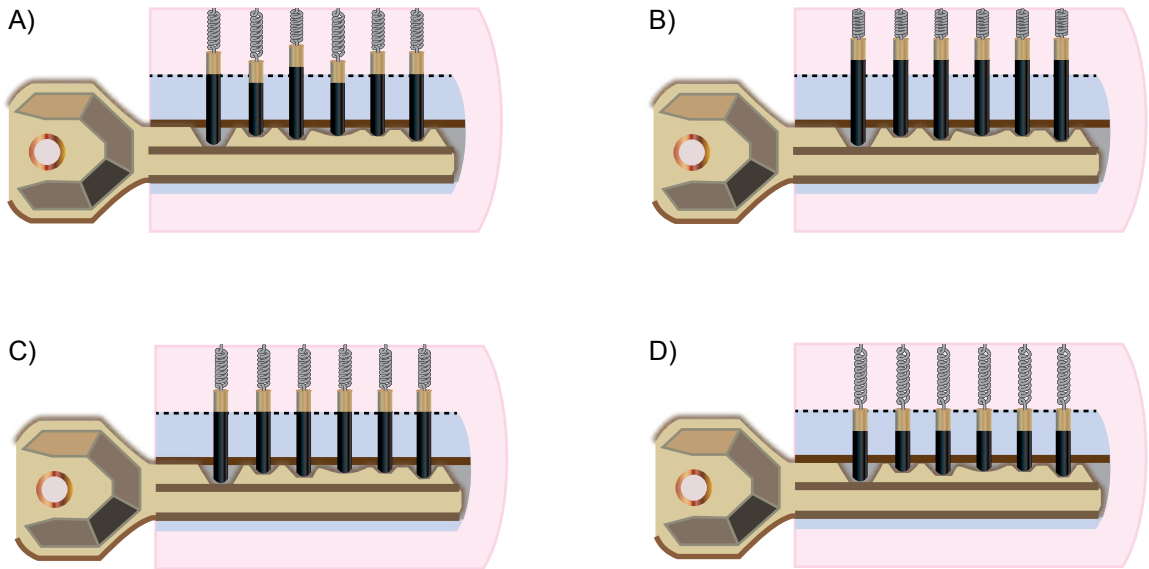
Günler	Üretim miktarı	Tüketim miktarı	Satış miktarı
Pazartesi	15	10	5
Salı	20	10	10
Çarşamba	30	15	15
Perşembe	40	25	15
Cuma	40	20	20
Cumartesi	35	10	25
Pazar	30	10	20

16. Aşağıdaki görsellerde silindirli kilit sistemi ve anahtar verilmiştir.



Bir silindirli kilit sisteminde, kilidi açabilmek için o kilitte aynı şifreleme sistemine sahip bir anahtar gerekmektedir. Kilit göbeğinin içinde, döndürüldüğünde kilidi açabilen bir iç silindir bulunur. İç silindirin içinden başlayıp kilit göbeğinin üst bölümüne doğru uzanan dikey metal çubuklara pim adı verilir. Bu pimler ise boyutları birbirine eşit olan üst pimler ve boyutları birbirinden farklı olabilen şifre pimleri olarak iki bölümden oluşur. Üst pimler yaylar yardımıyla kilit göbeğine sabitlenmiş durumdadır. Anahtar, anahtar yuvasına yerleştirildiğinde anahtarın şifre yuvaları şifre pimleriyle eşleşir. Eğer anahtar, silindirli kilit sistemiyle aynı şifrelemeye sahipse bütün şifre pimlerinin üst sınırları ile iç silindirin üst sınırı aynı hizada olur. Bu durumda anahtar çevrildiğinde iç silindir döndürülür ve kilit açılır.

Bu bilgilere göre, anahtar çevrildiğinde açılabilir durumda olan kilit görseli aşağıdakilerden hangisidir?



17. (I) Kültür alanında Türk Medeniyeti için önemli katkıları bulunan Cemil Meriç, 38 yaşında gözlerini kaybetmiştir. (II) Bu olaydan sonra derin bir bunalıma girmiş ve girdiği bunalımdanda yine kitaplar sayesinde çıkabilmiştir. (III) Kitaplar hayatımın pek çok döneminde benim limanımdı, der. (IV) Göremez olduktan sonra da başta Kızı Ümit Meriç olmak üzere ailesi ona saatlerce yüksek sesle kitap okumuştur.

Bu metindeki numaralanmış cümlelerin hangisinde yazım yanlışı yoktur?

- A) I B) II C) III D) IV

18. Otlarla, makilerle, ağaçlarla kaplandı kalenin birçok yeri (I) Keçiboynuzu ağaçları, badem ağaçları ve daha niceleri (II) Enteresan bitkiler de dâhil buna (III) Frenk üzümü bunlardan sadece bir tanesi (IV) Eskiden de bu bitkiler var mıydı, bilinmez.

Bu metindeki numaralanmış yerlerden hangisine üç nokta (...) getirilmelidir?

- A) I B) II C) III D) IV

19. Türk eğitim tarihi, köklü geçmişiyle Türkistan bozkırlarından başlayıp Anadolu topraklarında derinleşen ve olgunlaşan bir süreci kapsar. Eğitim sistemimiz, bu süreçte hem

I
geleneksel değerler korunarak hem de farklı coğrafyalarda karşılaşılan kültürlerle zenginleştirilerek geliştirilmiştir.

II

Bu metinde numaralanmış fiillerin çatısıyla ilgili aşağıdakilerin hangisi doğrudur?

- A) I numaralı fiil öznesine göre etken, nesnesine göre geçişlidir.
B) I numaralı fiil öznesine göre edilgen, nesnesine göre geçişsizdir.
C) II numaralı fiil öznesine göre etken, nesnesine göre geçişsizdir.
D) II numaralı fiil öznesine göre edilgen, nesnesine göre geçişlidir.

20. (I) Anadolu toprakları kültür ve tarih açısından olduğu kadar bitki çeşitliliği açısından da dünyanın en zengin coğrafyalarından biri. (II) Yüz ölçümü olarak kıtalara kıyasla küçük olsa da bölgeye özgü birçok bitki yetişmekte bu coğrafyada. (III) Dünyanın yalnızca belirli bölgelerinde yetişen bu bitkilere "endemik bitki" denmekte. (IV) Çok fazla endemik bitki barındıran Anadolu coğrafyasında bu zenginliği oluşturan en önemli faktör, şüphesiz iklim kuşağı.

Bu metindeki numaralanmış cümlelerin hangisi yüklemine yerine göre diğerlerinden farklıdır?

- A) I B) II C) III D) IV

SINAVLA ÖĞRENCİ ALACAK ORTAÖĞRETİM KURUMLARINA İLİŞKİN MERKEZİ SINAV

T.C. İNKILAP TARİHİ VE ATATÜRKÇÜLÜK

1. Bu testte 10 soru vardır.
2. Cevaplarınızı, cevap kâğıdına işaretleyiniz.

1. Mustafa Kemal Atatürk "Artık duramayız, mutlaka ileri gideceğiz çünkü mecburuz! Medeni dünya çok ileridedir. Buna yetişmek, o medeniyet dairesine dahil olmak mecburiyetindedir." **sözleriyle aşağıdaki ilkelerinden hangisinin önemini vurgulamıştır?**

- A) Halkçılık B) Milliyetçilik
C) İnkılapçılık D) Cumhuriyetçilik

2. Atatürk diyor ki: "Hiçbir ulus aynen diğer bir ulusun taklitçisi olamaz, olmamalıdır. Çünkü böyle bir ulus ne taklit ettiği ulusun aynı olabilir ne de kendi ulusu içinde kalabilir. Bunun sonucu kuşkusuzdur ki hüsrandır. Bir ulus için saadet olan şey, diğer ulus için felaket olabilir. Aynı sebep ve şartlar birisini mesut ettiği hâlde, diğerini bedbaht edebilir. Onun için ulusa gideceği yolu gösterirken dünyanın her türlü biliminden, buluşlarından, ilerlemelerinden faydalanılır. Lakin unutmamalım ki asıl temeli kendi içimizden çıkarmak zorunluğundayız."

Atatürk, bu sözleriyle aşağıdakilerden hangisinin önemini vurgulamıştır?

- A) Millîlik B) Eşitlik
C) Özgürlük D) Barışçılık

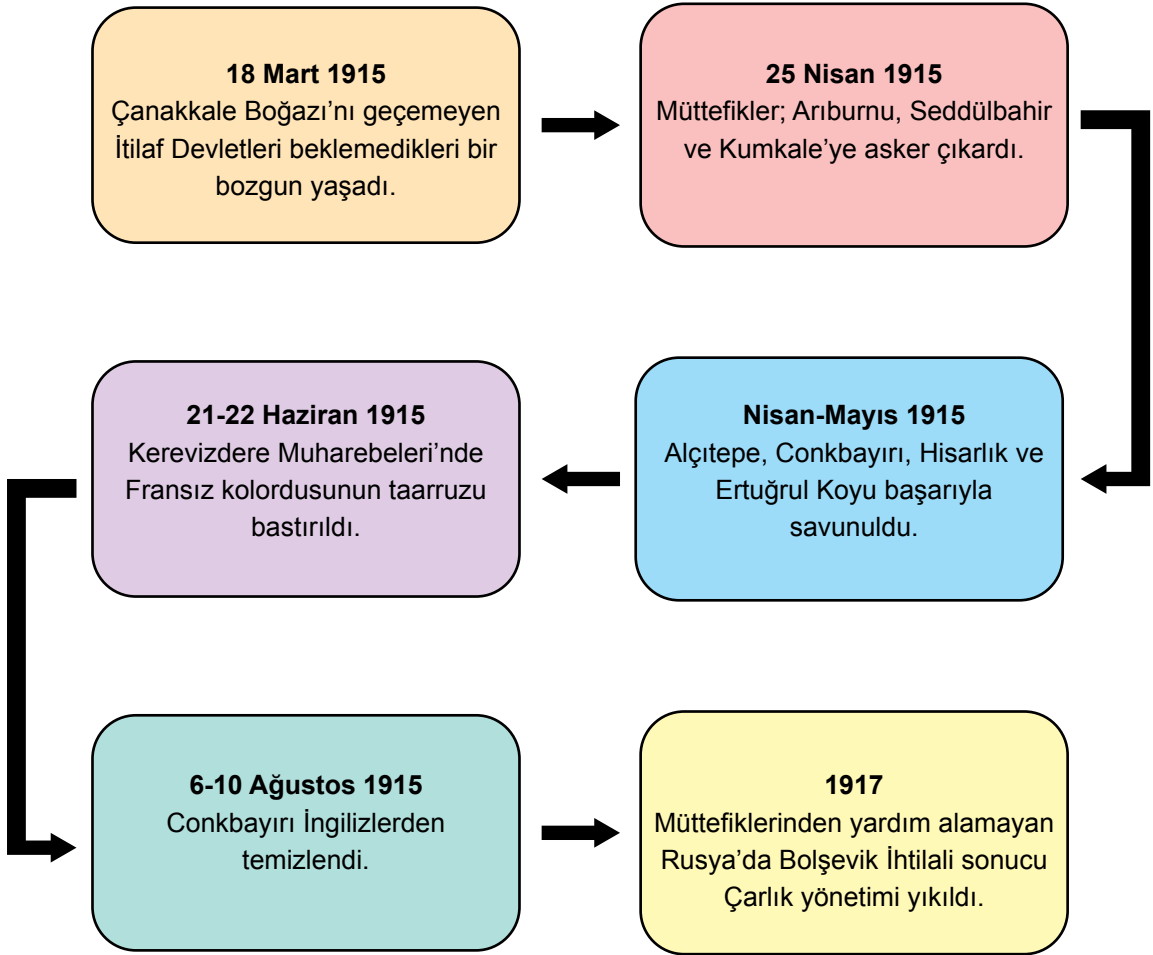
3. Birinci Balkan Savaşı'ndan en kazançlı çıkan devlet Bulgaristan olmuştur. Balkan Savaşları'nın ilk evresinde Gelibolu Yarımadası dışındaki tüm Trakya, Edirne de dâhil olmak üzere Bulgaristan'a bırakılmıştı. Bu durumu çıkarlarına aykırı bulan Yunanistan, Sırbistan, Karadağ ve Romanya; Bulgaristan'a saldırarak İkinci Balkan Savaşı'nı başlattılar. Osmanlı Devleti de Bulgaristan'a savaş ilan ederek Edirne ve Kırklareli'yi geri aldı. Bulgaristan'ın mağlup olduğu bu savaşta Mustafa Kemal, Gelibolu Yarımadası'nda bulunan askerî birlikte görev yaptı.

Buna göre, İkinci Balkan Savaşı ile ilgili aşağıdakilerden hangisine ulaşılabilir?

- A) Mustafa Kemal, Anafartalar Ordusu Grup Komutanlığı görevine getirilmiştir.
B) Batı Trakya'da Osmanlı Devleti'nin siyasi otoritesi yeniden sağlanmıştır.
C) Doğu Trakya topraklarındaki Bulgaristan egemenliği kalıcı hâle gelmiştir.
D) Osmanlı Devleti, Balkan devletleri arasındaki anlaşmazlıklardan yararlanmıştır.

4.

TÜRK MİLLETİNİN VAROLUŞ DESTANI: ÇANAKKALE



Buna göre Çanakkale Cephesi ile ilgili,

- I. Rusya'da rejim değişikliğinin yaşanmasında etkili olmuştur.
- II. İngilizlerin Birinci Dünya Savaşı'ndan çekilmesi sürecini hızlandırmıştır.
- III. Taraflar arasında deniz ve kara savaşları yaşanmıştır.

yargılarından hangilerine ulaşılabilir?

A) I ve II

B) I ve III

C) II ve III

D) I, II ve III

5. Amasya Genelgesi'nden itibaren Erzurum ve Sivas kongrelerinde alınan kararların ve Ankara'da Türkiye Büyük Millet Meclisinin açılmasının amacı, hiç kimseye bağlı kalmadan yaşamayı gerçekleştirmek ve bu yolda düşmanlara karşı mücadele etmektir. İstiklal Savaşı, hürriyete ve istiklale derin bir aşkı olan milletin şahlanması; zulüm ve baskıya, haksızlığa karşı direnmesidir. Türk milletinin haysiyetli ve şerefli bir millet olarak yaşaması, yeni kurulan Türk devletinin esas fikir ve gayesi olmuştur.

Bu metinde, Atatürk ilke ve inkılaplarını oluşturan esaslardan hangisine vurgu yapılmıştır?

- A) Bağımsızlık ve özgürlüğe
- B) Millî tarih bilincine
- C) Çağdaşlaşma idealine
- D) Millî kültürün geliştirilmesine

6. Mustafa Kemal Paşa'nın başında bulunduğu Heyet-i Temsiliye, Maraş ve Antep bölgesindeki millî kuvvetleri teşkilatlandırmak ve direnişi örgütlemek üzere Kılıç Ali Bey'i görevlendirmişti. Böylece Mustafa Kemal Paşa tarafından Sivas Kongresi kararları doğrultusunda bölgeye gönderilen Kılıç Ali Bey sayesinde, tüm direniş güçlerinin Heyet-i Temsiliye'ye bağlanması sağlanacaktı.

Bu bilgilere göre, aşağıdakilerden hangisi söylenemez?

- A) Heyet-i Temsiliye, yürütme organı gibi hareket etmiştir.
- B) Mücadelenin tek merkezden yürütülmesi amaçlanmıştır.
- C) Yöre halkının işgallere karşı direnişi güçlendirilmek istenmiştir.
- D) Mustafa Kemal Paşa, Başkomutanlık yetkisini kullanmıştır.

7. Birinci Dünya Savaşı'nda Mustafa Kemal Paşa, komuta ettiği Suriye-Filistin Cephesi'ndeki 7. Ordu'yu nüfusunun büyük bir kısmı Türk olan Halep'e çekmişti. Burada İngiliz kuvvetlerini geri püskürten Mustafa Kemal Paşa, bu zaferden sonra "Bir hat tespit ettim ve sınırladım. Kuvvetlerime emrettim ki düşman bu hattın ilerisine geçmeyecek." demiştir ve nitekim de düşman bu hattın ilerisine geçememiştir.

Buna göre Mustafa Kemal Paşa;

- I. İngilizlerin Orta Doğu'daki varlığına son vermek,
- II. düşman birliklerinin kuzeye doğru ilerlemesini engellemek,
- III. çoğunluğu Türk olan bölgeye çekilerek savunma yapmak

hedeflerinden hangilerini gerçekleştirmek istemiştir?

- A) I ve II B) I ve III
C) II ve III D) I, II ve III

8. "Sakarya Savaşı'nın kazanılmasıyla dış dünya tarafından bir Türk zaferinin kaçınılmaz olduğu anlaşılmış ve yeni diplomatik adımlar atılmaya başlanmıştı." **diyene bir kişi, aşağıdaki gelişmelerden hangisini bu düşüncesine kanıt olarak gösterebilir?**

- A) TBMM Hükümeti ve Afganistan arasında bir dostluk antlaşmasının yapılması
B) Fransa'yla TBMM arasında Ankara Antlaşması'nın imzalanması
C) Gümrü Antlaşması ile Ermenistan'ın yeni Türk Devleti'ni tanınması
D) İtilaf Devletleri'nin Londra Konferansı'nı düzenlemesi

9.

DEMOKRATİKLEŞME YOLUNDA ATILAN ADIMLAR	
Terakkiperver Cumhuriyet Fırkası	Serbest Cumhuriyet Fırkası
<p>17 Kasım 1924 Mustafa Kemal ile görüş ayrılığına düşen bazı milletvekilleri tarafından Terakkiperver Cumhuriyet Fırkası kuruldu.</p> <p>3 Haziran 1925 Ülkemizin doğusunda çıkan bir ayaklanmanın ardından Bakanlar Kurulu kararıyla Takrir-i Sükûn Kanunu'na dayanılarak parti kapatıldı.</p>	<p>12 Ağustos 1930 Mustafa Kemal, bir muhalefet partisi kurulmasını sağlamak için Fethi Okyar ile görüştü. Daha sonra Serbest Cumhuriyet Fırkası kuruldu.</p> <p>17 Kasım 1930 Cumhuriyet karşıtlarının başlattığı olaylar nedeniyle Fethi Okyar, kurucusu olduğu partiyi feshetti.</p>

Bu tabloya göre, aşağıdakilerden hangisi söylenebilir?


- A) Kurulan her iki parti de mecliste çoğunluğu sağlamıştır.
- B) Ülkemizde çok partili yaşam için uygun ortam olmadığı görülmüştür.
- C) İç politikada yaşanan sorunlar nedeniyle inkılaplardan vazgeçilmiştir.
- D) Meclis hükûmeti sisteminin devam etmesine karar verilmiştir.

- 10.** Musul, Misak-ı Millî sınırları içerisinde yer alıyordu. Lozan Konferansı'nda ve sonrasında İngiltere ile yapılan görüşmelerde Musul ile ilgili bir karara varılamadı. Konu Milletler Cemiyetine taşındı ve Milletler Cemiyeti de Musul'u, İngiliz mandasındaki Irak'a bıraktı. Türkiye de 1926 yılında imzaladığı Ankara Antlaşması'yla bu kararı kabul etti.

Bu bilgilere göre, aşağıdakilerden hangisine ulaşılabilir?

- A) Türkiye'nin güney sınırı bugünkü şeklini almıştır.
- B) Milletler Cemiyeti tarafsız bir politika izlemiştir.
- C) Irak'ın bağımsız bir devlet olduğu kabul edilmiştir.
- D) Musul Sorunu diplomasi yoluyla çözümlenmiştir.

T.C. İNKILAP TARİHİ VE ATATÜRKÇÜLÜK TESTİ BİTTİ.
DİN KÜLTÜRÜ VE AHLAK BİLGİSİ TESTİNE GEÇİNİZ.

Diğer sayfaya geçiniz. 

SINAVLA ÖĞRENCİ ALACAK ORTAÖĞRETİM KURUMLARINA İLİŞKİN MERKEZİ SINAV

DİN KÜLTÜRÜ VE AHLAK BİLGİSİ

1. Bu testte 10 soru vardır.
2. Cevaplarınızı, cevap kâğıdına işaretleyiniz.

1. Bir yardımsevere sordular: “Muhtaçlara verdiğin, yoksullara dağıttığın şeylerden dolayı gönlünde bir minnet beklentisi ve kibir hissi oluşuyor mu?” O, şöyle cevap verdi: “Ben, bana verilen nimetler karşısında kendimi aşçının elindeki kepçe gibi kabul ediyorum. Yemeği veren aşçıdır fakat kepçeden geçiyor. Kepçenin ‘Yemeği veren benim.’ gibi bir düşüncesi olabilir mi?”

Bu metinde verilen asıl mesaj aşağıdakilerden hangisidir?

- A) Hayır yolunda yarışılmalıdır.
- B) Yardım edilenlerin onuru korunmalıdır.
- C) İyilik, her şeyin sahibinin Allah olduğu bilinciyle yapılmalıdır.
- D) Kazancın bir kısmı ihtiyaç sahiplerine verilmelidir.

2. **Kader ve kaza ile ilgili,**

- I. Allah’ın bir işi planlamasına kaza, bu işi gerçekleştirmesine ise kader denir.
- II. Kader ve kaza; Allah’ın ilim, irade, kudret ve yaratma sıfatlarıyla ilgili kavramlardır.
- III. İnsanın tercihleri, kaderini belirlemede etkilidir.

ifadelerinden hangileri doğrudur?

- A) Yalnız I
- B) Yalnız III
- C) I ve II
- D) II ve III

3. Kur'an-ı Kerim'de yeryüzünün insanın hizmetine sunulduğu ve insanın da yeryüzündeki düzene uygun bir yaşam sürmesinin gerektiği hatırlatılmaktadır. Çünkü insan, bu bilinçle hareket etmezse yeryüzü artık ona hizmet edemez ve zarar vermeye başlar. Bununla ilgili Kur'an-ı Kerim'de şöyle buyrulur: - - - -

Bu metinde boş bırakılan yere düşüncenin akışına göre aşağıdaki ayetlerden hangisi getirilmelidir?

- A) "Kim Allah yolunda karşılaştığı sıkıntılara katlanır ve gayret gösterirse bunu kendisi için yapmış olur..."
(Ankebût suresi, 6. ayet)
- B) "İnsanların yaptıkları kötü işler yüzünden karada ve denizde denge bozuldu. Allah, doğru yolu bulmaları için yaptıklarının sonucunu onlara tattırır."
(Rûm suresi, 41. ayet)
- C) "Başına gelen bir sıkıntıdan sonra insana nimet verdiğimizde o, 'Sıkıntı ve dertlerim gitti.' diyerek sevinmeye ve şımarmaya başlar."
(Hûd suresi, 10. ayet)
- D) "... Allah'ın kudret ve egemenliği gökleri ve yeri kuşatmıştır. Bunları koruyup gözetmek, O'na güç gelmez. O yücedir, büyüktür."
(Bakara suresi, 255. ayet)

4. Millî futbolcu Arda Güler, attığı gollerden sonra bir elini kalbinin üzerine koyup diğer elinin işaret parmağını göğe doğru kaldırarak sevincini kutluyor. Bunun ne anlama geldiği kendisine sorulduğunda "Bu tevekkül inancımın göstergesidir. Çünkü hayatta insanın başına iyi şeyler gibi kötü şeyler de gelebiliyor: başarıların yanında başarısızlıklar, sağlıklı olmanın yanında hastalıklar... Ben elimden geleni yapıyorum, çalışıp çabalıyorum; sonucunu Allah'a bırakıyorum." dedi.

Bu metinde "tevekkül inancı" ile ilgili asıl anlatılmak istenen aşağıdakilerden hangisidir?

- A) Zorlukların aşılmasında etkilidir.
B) Gayret göstermekle birlikte Allah'a güvenmektir.
C) Kişinin huzurlu olmasına katkı sağlar.
D) Tercihlerinin sorumluluğunu üstlenmektir.



5. Zekât ile ilgili,

- I. Toprak ürünlerinin zekâtı verilirken malın üzerinden bir yıl geçme şartı aranmaz.
- II. Bir malın zekâtının verilebilmesi için o malın gelir getiren cinsten olması gerekir.
- III. Temel ihtiyaç olarak kabul edilen malın zekâtının verilmesi gerekir.
- IV. Zekât verilirken bakmakla yükümlü olunan kişilere öncelik verilmelidir.

numaralanmış bilgilerden hangileri doğrudur?

- | | |
|--------------|--------------|
| A) I ve II | B) I ve IV |
| C) II ve III | D) III ve IV |

6. Aşağıdaki ayetlerin hangisinde Hz. Muhammed'in (sav) "üsveihase" oluşu vurgulanmaktadır?

- A) "Biz senden önce de birçok peygamber gönderdik. Onlardan bazılarının hikâyelerini sana anlattık, bazılarını anlatmadık..."
(Mü'min suresi, 78. ayet)
- B) "Ey Peygamber! Sen sevdiğini hidayete erdiremezsin. Allah, hidayet yolunu tercih eden hidayete erdirir ve hidayete erecek olanı en iyi O bilir."
(Kasas suresi, 56. ayet)
- C) "Bu Kur'an'ı, insanlara hak ve hakikatleri göstermek amacıyla sana indirdik. Artık kim doğru yolu seçerse kendi lehinedir, kim de saparsa ancak kendi aleyhinedir..."
(Zümer suresi, 41. ayet)
- D) "Ant olsun, Allah'ın Resulü'nde sizin için; Allah'a ve ahiret gününe kavuşmayı uman, Allah'ı çok zikreden kimseler için güzel bir örnek vardır."
(Ahzâb suresi, 21. ayet)

7. Taifliler, Hz. Muhammed'e (sav) gelerek putlarına dokunulmaması, zekâttan sorumlu tutulmamaları şartıyla Müslüman olabileceklerini söylediler. Bunun üzerine Hz. Muhammed (sav) bir müddet için zekâttan muaf tutulabileceklerini ancak putlara karşı sevgi besledikleri sürece "Müslüman olduk." demelerinin bir anlamı olmayacağını belirtti.

Bu olayda Hz. Muhammed (sav) aşağıdakilerden hangisini vurgulamaktadır?

- A) İman, özgür iradenin bir sonucudur.
B) Tevhit inancı İslam'ın temelidir.
C) İbadetlerde devamlılık esastır.
D) Din, ahlaki değerlerin oluşmasında etkilidir.

8. I. Kureyşlileri Safa Tepesi'ne davet edip kendisinin Allah tarafından peygamber olarak gönderildiğini bildirmesi ve onları İslam'a çağırması
II. Yaşadığı ilk vahiy tecrübesini Varaka bin Nevfel'e anlatıp onun birikiminden faydalanması
III. Peygamberlikten vazgeçmesi için müşriklerin sundukları teklifleri "Güneş'i sağ elime, Ay'ı sol elime verseniz yine de davamdan dönmem." diyerek reddetmesi
IV. Müslümanların namaza nasıl davet edileceği konusunda sahabelerin görüşlerini alması

Numaralanmış olaylardan hangileri Hz. Muhammed'in (sav) istişareye verdiği öneme örnektir?

- A) I ve II
B) I ve III
C) II ve IV
D) III ve IV



9. “Sabahı aydınlatan Allah’tır. O, geceyi dinlenme zamanı, Güneş’i ve Ay’ı birer hesap ölçüsü yapmıştır. İşte bu, aziz ve alim olan Allah’ın takdiridir. O, kara ve denizin karanlıklarında yolunuzu bulmanız için yıldızları yaratmıştır...”

(En’âm suresi, 96-97. ayetler)

Bu ayetlerde asıl anlatılmak istenen aşağıdakilerden hangisidir?

- A) Evrendeki düzen Allah’ın koyduğu ilkelerle gerçekleşir.
B) Evrensel yasaları anlamak, Allah’a olan inancı kuvvetlendirir.
C) Ezeli ve ebedî olan tek varlık Allah’tır.
D) Allah, insanın evrensel yasalara uygun hareket etmesini ister.

10. Hz. Peygamber “İnsanların en hayırlısı kimdir?” diye soran birine “İkramda bulunan, tanıdığına ve tanımadığına selam verendir.” cevabını vererek selamlaşmanın önemine dikkat çekmektedir. Tanıdığına verilen selam, aradaki bağı ve muhabbeti kuvvetlendirirken tanımadık birine verilen selam, toplumda güven ortamının oluşmasına vesile olur. Bununla beraber, büyüğe verilen selam saygıyı pekiştirirken küçüklere verilen selam merhameti ve sevgiyi artırır. Ayrıca “İman etmedikçe cennete giremezsiniz. Birbirinizi sevmedikçe de iman etmiş olmazsınız. Size birbirinizi seveceğiniz bir şey söyleyeyim mi? Aranızda selamı yayınız!” hadisi selamlaşmanın ahirette de bir karşılığı olduğunu hatırlatmaktadır.

Bu metne göre “selamlaşma” ile ilgili aşağıdakilerden hangisi söylenemez?

- A) Cömertliğe teşvik ettiği
B) Dinî bir değer olduğu
C) İnsanlar arası iletişimi güçlendirdiği
D) Birlik ve beraberliğe katkı sağladığı

SINAVLA ÖĞRENCİ ALACAK ORTAÖĞRETİM KURUMLARINA İLİŞKİN MERKEZİ SINAV

YABANCI DİL (İNGİLİZCE)

1. Bu testte 10 soru vardır.
2. Cevaplarınızı, cevap kâğıdına işaretleyiniz.

1. Read the opinions of four people about their friends.

Alex

Tim doesn't forget to organize parties for my birthdays.

Fred

I don't like spending time with Joe.

Jill

I don't trust Betty, so I don't share my secrets with her.

Sally

Ashley doesn't support me when I need her.

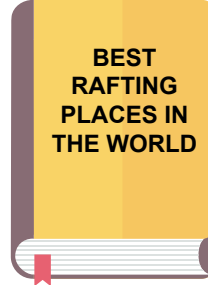
According to the information above, who says something positive about his/her friend?

- A) Alex B) Fred C) Jill D) Sally

2. Clara is going to buy some books for her friends. She knows that Robert loves reading about architecture. Lisa reads magazines about water sports. Mary usually buys books on health and Jack is interested in cooking.

According to the information above, which of the following books is Clara NOT going to buy?

A)



B)



C)

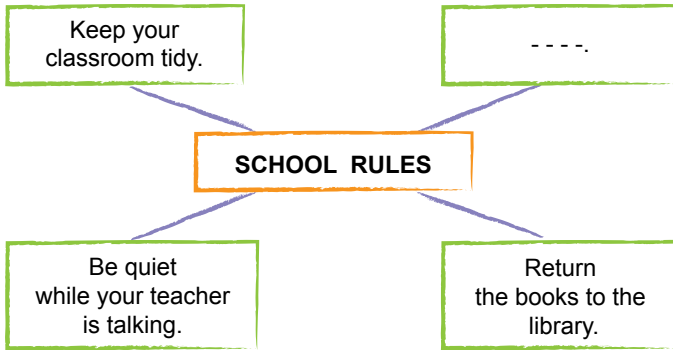


D)





3.



Which of the following does NOT fill in the blank above?

- A) Don't talk to each other during the lessons
- B) Don't be noisy in the school library
- C) Come to school on time
- D) Help your parents with the chores

4. In an English lesson, the teacher asks the students to put the words into two groups. Group 1 is about cooking methods and Group 2 is about kitchen tools.

Group 1: Cooking Methods
Bake
Bowl
Fry

Group 2: Kitchen Tools
Boil
Pan
Teaspoon

According to the information above, which two words should change places to be in the correct group?

- A) Bake - Boil
- B) Bowl - Boil
- C) Fry - Pan
- D) Fry - Teaspoon

5. Below, you see some parts of four different phone conversations.

1

Charles : Can I speak to Mr Brown, please?
Secretary : Sure, he is waiting for your call.

2

Tony : This is Tony calling. Can I speak to Mr Jordan, please?
Secretary : Just a minute, please. I'll get him for you.

3

Ted : May I speak to Mr Logan, please?
Secretary : He is in a meeting now, but he'll call you back after the meeting.

4

Peter : Could you put me through to Mr Miller, please?
Secretary : Yes, hold on a minute, please.

According to the conversations above, who is **DEFINITELY NOT** available at the moment?

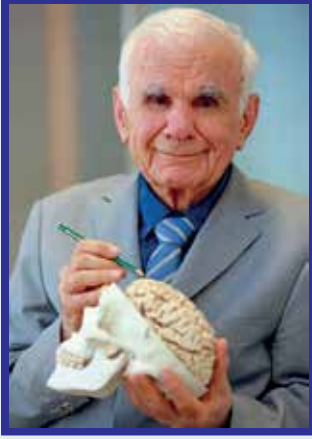
A) Mr Brown

B) Mr Jordan

C) Mr Logan

D) Mr Miller

6.



Prof. Gazi YAŞARGİL

He was born in 1925 in Diyarbakır. He has two brothers and two sisters. He has three children: Leyla, Ceylan and Can.

After his graduation from Ankara Atatürk High School, he studied medicine in Basel and Zurich.

He developed new methods and special tools in medicine. He published lots of articles and he is the writer of many books. There is also a "Yaşargil" lab in Oxford.

Which of the following headings does NOT match with any of the three texts given above?

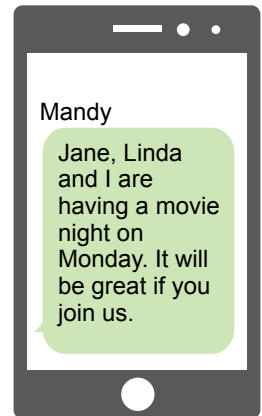
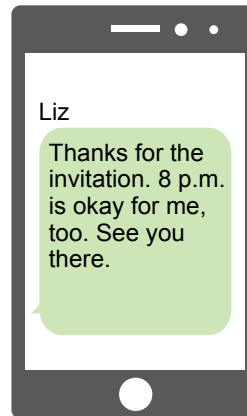

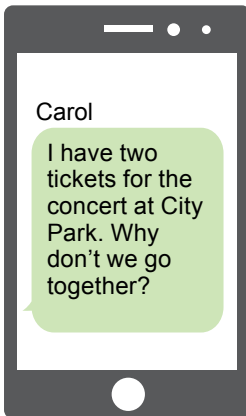
A) Hobbies

B) Education

C) Personal Life

D) Achievements

7. Susan had some messages from her friends.



According to the information above, who did NOT invite Susan to an event?

A) Carol

B) Jason

C) Liz

D) Mandy

8. Mike has written a new book about extreme sports. On the Internet, there are many comments about Mike's book. Below, you see four of them.

Joe

Thanks to this book, I have learned a lot of interesting things about extreme sports.

Kelly

The first part of the book especially includes some very important information.

Mary

If you are interested in extreme sports, you should read this book.

Nancy

If you really want to learn about extreme sports, go and buy another book.

Who does NOT think Mike's book is useful?

A) Joe

B) Kelly

C) Mary

D) Nancy

9. Below, you see some information about different tourist destinations.

The Romans built the Colosseum in Italy. Thousands of people went there to watch events.

Babur Shah built the Taj Mahal in the city of Agra. You can enjoy its beautiful gardens when you visit it.

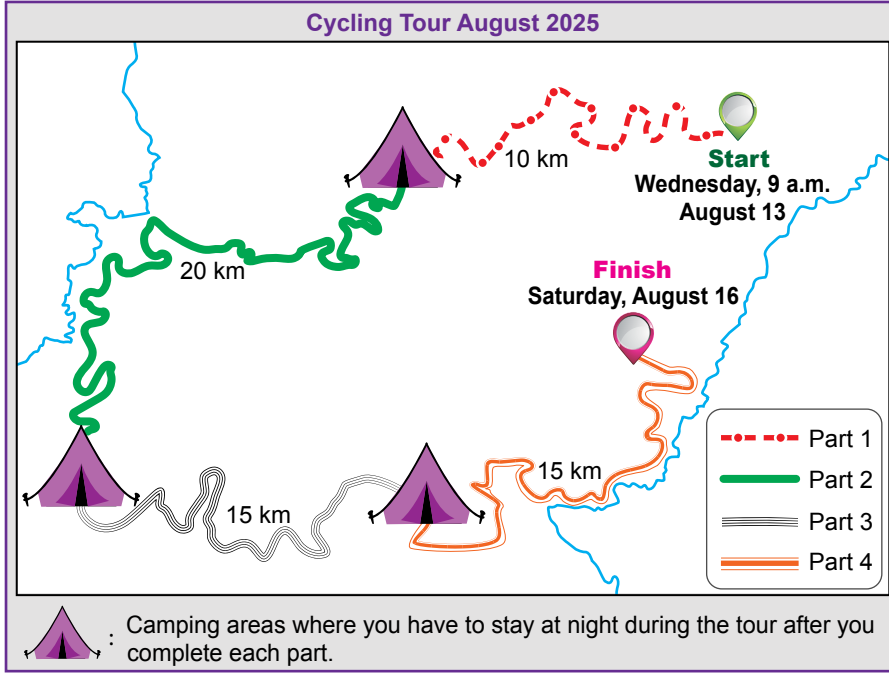
Adrasan is a small town in Antalya, Türkiye. You can go there by car.

You can go to Rize to try rafting on the River Fırtına.

Which of the following questions has the answer in all four texts above?

- A) Who built it?
B) What can you do there?
C) How can you go there?
D) Where is it?

10. Below, you see the map of "Cycling Tour August 2025".



According to the map above, which of the following is false?

- A) You have to ride your bike for more than 50 km to finish the whole tour.
- B) You spend less than three nights at the camping areas during the tour.
- C) The tour takes less than a week to complete.
- D) The particular starting time of the tour is given on the map.

TEST BİTTİ.
CEVAPLARINIZI KONTROL EDİNİZ.

SINAV BAŞLAMADAN AŞAĞIDAKİ UYARILARI MUTLAKA OKUYUNUZ!

1. Öğrenciler, sınav kurallarına ve salon görevlilerinin tüm uyarılarına uymak zorundadırlar.
2. Sınav başladıktan sonra öğrencilerin salon görevlileri ve birbirleri ile konuşmaları; kalem, silgi vb. şeyleri istemeleri yasaktır.
3. Cevap kâğıdınızı imzalayınız.
4. Sınav sırasında her türlü kesici ve delici alet, ateşli silah, çanta, cüzdan, cep telefonu, her türlü saat, anahtarlık, elektronik anahtar, kalemlik, kablosuz iletişim sağlayan cihaz, kulaklık, kolye, küpe, bilezik, yüzük, broş ve diğer takılar; her türlü plastik, metal ve cam eşya, banka kredi kartları, her türlü elektronik mekanik cihaz, her türlü müsvedde kâğıt, defter, ders notu, kitap, sözlük, dergi, gazete vb. yayınlar; cetvel, pergel, açölçer vb. araçlar ile yiyecek, içecek ve diğer tüketim maddelerini yanınızda bulundurmuyunuz. Öğrenciler, bu araçlarla sınava alınmayacağı gibi sınav anında yanında bulunduğu tespit edilirse sınav kurallarını ihlal ettiği gerekçesiyle sınavı tutanakla geçersiz sayılacaktır.
5. Soru kitapçığının sayfalarını görevlilerin uyarıları doğrultusunda kontrol ediniz, baskı hatası var ise değiştirilmesini sağlayınız.
6. Cevaplamaya istediğiniz sorudan başlayabilirsiniz.
7. Soru kitapçığının içindeki boş alanları çözümlerinizi için kullanabilirsiniz.
8. Cevabını bilmediğiniz sorular üzerinde fazla zaman kaybetmeden diğer sorulara geçiniz. Zamanınız kalırsa bu sorulara daha sonra dönebilirsiniz.
9. Soru kitapçığı üzerinde yapılıp cevap kâğıdına işaretlenmeyen cevaplar değerlendirmeye alınmayacaktır.
10. Cevaplarınızı, cevap kâğıdındaki ilgili soru numarasını dikkate alarak yuvarlağın dışına taşırmadan siyah kurşun kalemle kodlayınız.
11. Değiştirmek istediğiniz bir cevabı, yumuşak silgiyle cevap kâğıdını yıpratmadan temizce siliniz ve yeni cevabınızı kodlayınız.
12. Cevap kâğıdınızı sınav süresince hiçbir öğrencinin göremeyeceği şekilde önünüzde bulundurunuz.
13. Sınavınızın değerlendirilmesi aşamasında, toplu kopya tespiti veya başka adayın sınav evrakını kullanmanız durumunda sınavınız geçersiz sayılacaktır.
14. Soruları ve sorulara verdiğiniz cevapları kaydetmeyiniz, hiçbir şekilde dışarı çıkarmayınız.
15. Sınav bitiminde, soru kitapçığı ve cevap kâğıdını salon görevlilerine teslim ediniz.
16. Sınav evraklarını teslim etmeyenlerin sınavı geçersiz sayılacaktır.
17. Puanlama: Her bir ders testine ait ham puan; ilgili teste ait doğru cevap sayısından yanlış cevap sayısının üçte biri çıkarılarak hesaplanacaktır.

SALON GÖREVLİLERİNCE SINAV BAŞLAMADAN ÖNCE ÖĞRENCİLERE YAPILACAK SON UYARILAR

- Soracağınız bir şey varsa şimdi sorunuz, sınav başladıktan sonra sorularınıza cevap verilmeyecektir.
- Başlama zilini bekleyiniz.

Hepinize başarılar dileriz.

(Salon görevlisi sınav özetini tahtaya yazacaktır.)

15.06.2025 TARİHİNDE YAPILAN SINAVLA ÖĞRENCİ ALACAK ORTAÖĞRETİM
KURUMLARINA İLİŞKİN MERKEZİ SINAV "SÖZEL BÖLÜM"
"A" KİTAPÇIĞI CEVAP ANAHTARI

TÜRKÇE	T.C. İNKILAP TARİHİ VE ATATÜRKÇÜLÜK	DİN KÜLTÜRÜ VE AHLAK BİLGİSİ	YABANCI DİL (İNGİLİZCE)
1. B	1. C	1. C	1. A
2. A	2. A	2. D	2. C
3. C	3. D	3. B	3. D
4. D	4. B	4. B	4. B
5. C	5. A	5. A	5. C
6. D	6. D	6. D	6. A
7. B	7. C	7. B	7. C
8. D	8. B	8. C	8. D
9. C	9. B	9. A	9. D
10. A	10. D	10. A	10. B
11. D			
12. C			
13. D			
14. A			
15. B			
16. C			
17. C			
18. B			
19. A			
20. B			